

Р.В. Гладковський, А.І. Довгань, Л.Б. Паламарчук, В.В. Сovenко

ЗБІРНИК ЗАВДАНЬ

для державної підсумкової атеста-
ції з географії

*Рекомендовано Міністерством освіти і науки,
молоді та спорту України*

9

клас

Київ
Центр навчально-методичної літератури
2013



ПОЯСНЮВАЛЬНА ЗАПИСКА

Збірник завдань для державної підсумкової атестації з географії охоплює зміст навчальної програми шкільного курсу «Географія України». Основна мета посібника – забезпечити об'єктивне оцінювання навчальних досягнень дев'ятикласників під час проведення державної підсумкової атестації з географії в основній школі за допомогою різнорівневих завдань.

До збірника входить 30 варіантів атестаційних робіт. Кожен варіант налічує 28 тестових завдань різних типів і рівнів складності, зокрема з вибором однієї правильної відповіді, на визначення відповідності та завдання, що містять сім варіантів відповідей, три з яких є правильними. Крім тестових завдань, кожен варіант містить одне завдання на контурній карті та 3 завдання відкритого типу, одне з яких (під номером 31) має підвищений рівень складності (позначене зірочкою) і призначене лише для класів з поглибленим вивченням географії. Відповідно учні цих класів не виконують завдання відкритого типу під номером 30.

Під час виконання атестаційної роботи не дозволяється користуватися атласами та іншими джерелами картографічних знань.

Отже, кожен варіант атестаційної роботи складається з 31 завдання; на його виконання відводиться 90 хвилин.

• **Тестові завдання з вибором однієї правильної відповіді** (20 завдань у кожному варіанті; завдання 1–20) використовують для оцінювання знань географічних понять, термінів, умінь працювати з джерелами інформації, умінь виділяти головне. У завданнях такого типу пропонується чотири можливі варіанти відповідей, з яких правильною є лише одна. Завдання вважається виконаним правильно, якщо в бланку відповідей позначено тільки одну відповідь. Якщо позначено два або більше варіанти відповідей, навіть якщо серед них є правильний, або не позначено відповіді взагалі, завдання вважається виконаним неправильно.

Приклад завдання з вибором однієї правильної відповіді:

Вкажіть основний зональний тип ґрунтів степової зони України:

А бурі лісові
Б чорноземи

В дерново-підзолисті
Г болотні

А	Б	В	Г
<input type="checkbox"/>	<input checked="" type="checkbox"/>	<input type="checkbox"/>	<input type="checkbox"/>

Правильна відповідь:

Правильна відповідь на кожне таке завдання оцінюється 1 балом.

• **Тестові завдання на визначення відповідності** (п'ять завдань у кожному варіанті; завдання 21–25) використовують для оцінювання умінь визначати за описом приналежність географічного об'єкта до певного регіону, явищ і процесів – до певної геосфери, групи населення, галузей господарства тощо. Завдання такого типу передбачає вибір взаємопов'язаних понять, явищ, процесів і визначення логічних зв'язків між ними. Якщо в бланку відповідей записано всі правильні комбінації цифр і літер, завдання оцінюється 4 балами. Відповідно за одну правильно визначену відповідність – 1 бал, за дві – 2 бали, за три – 3 бали.

Приклад тестового завдання на визначення відповідності:

Знайдіть відповідність між тектонічними структурами та формами рельєфу, які з ними пов'язані:

- 1 Волино-Подільська плита
 - 2 Український щит
 - 3 Донецька складчаста споруда
 - 4 Закарпатська западина
- А** Приазовська височина
Б Закарпатська низовина
В Причорноморська низовина
Г Волинська височина
Д Донецький кряж

	А	Б	В	Г	Д
1	<input type="checkbox"/>	<input type="checkbox"/>	<input type="checkbox"/>	<input checked="" type="checkbox"/>	<input type="checkbox"/>
2	<input checked="" type="checkbox"/>	<input type="checkbox"/>	<input type="checkbox"/>	<input type="checkbox"/>	<input type="checkbox"/>
3	<input type="checkbox"/>	<input type="checkbox"/>	<input type="checkbox"/>	<input type="checkbox"/>	<input checked="" type="checkbox"/>
4	<input type="checkbox"/>	<input checked="" type="checkbox"/>	<input type="checkbox"/>	<input type="checkbox"/>	<input type="checkbox"/>

Правильна відповідь:

• **Тестові завдання, що містять сім варіантів відповідей, три з яких є правильними** (три завдання у кожному варіанті; завдання 26–28). До кожного завдання пропонується сім варіантів відповідей, серед яких лише три є правильними. Завдання вважається виконаним, якщо учень вибрав і записав правильні відповіді у бланку відповідей.

Приклад завдання, що містить сім варіантів відповідей, три з яких є правильними:

Виберіть правильні твердження щодо внутрішніх вод України:

- 1 річки України належать до басейнів Чорного, Азовського та Балтійського морів
- 2 Шацькі озера мають карстове походження
- 3 озеро Синевир льодовикового походження
- 4 водоспад Шипот найвищий в Україні
- 5 басейн Дунаю займає найбільшу площу в Україні
- 6 найдовший канал в Україні – Північнокримський
- 7 найбільша густота річкової сітки на Причорноморській низовині

Правильна відповідь:

1 2 6

Завдання оцінюється 3 балами: 1 бал за кожну правильно вказану відповідь (цифру) із трьох можливих; 0 балів, якщо не вказано жодної правильної відповіді (цифри) або відповіді на завдання не вказано. Порядок написання цифр значення не має.

Серед тестових завдань є завдання на контурній карті, що розміщена поруч. Потрібно вибирати правильну відповідь, тільки уважно розглянувши контурну карту.

Передбачені також завдання, у яких для пошуку правильної відповіді треба виконати певні математичні розрахунки. У такому разі для обчислень слід використати чернетку.

• **Завдання відкритого типу** налічують у кожному варіанті три завдання (завдання 29–31), з яких одне завдання (під номером 31) має підвищений рівень складності і позначене зірочкою. Відповідь на кожне з теоретичних завдань має бути вичерпною, послідовною, логічною. Максимальна кількість балів за кожну відповідь – 12. Завдання підвищеної складності (під номером 31) виконують тільки ті учні, які навчаються в класах з поглибленим вивченням географії. Відповідно такі учні не виконують завдання відкритого типу під номером 30. Завдання підвищеної складності оцінюється 12 балами. Отже, за всі правильні відповіді на завдання відкритого типу можна отримати загальну кількість балів – 24.

• **Завдання на контурній карті** передбачає нанесення на карту інформації відповідно до завдання та розробку легенди карти. Записи на карті й легенда подаються тим самим кольором ручки, яким виконується все тестове завдання. Правильно виконане завдання на контурній карті оцінюється 10 балами. При цьому враховується правильність виконання (відповідність завданню), точність нанесення географічних об'єктів, картографічна грамотність, повнота, охайність, акуратність виконання. У деяких випадках можна скористатися чернеткою, якщо легенда карти буде складною.

Пропоновані завдання кожного варіанта орієнтовані на перевірку рівня досягнень учнів за 12-бальною шкалою оцінювання навчальних досягнень. Будь-який бал, що набрав учень, є позитивним, тобто оцінювання ґрунтується на принципі позитивізму. Максимально можливий бал за правильно виконаний варіант атестаційної роботи становить 83 бали. Оцінка учня залежить від кількості правильних відповідей на тестові завдання та якості виконання теоретичних завдань і завдання на контурній карті.

Пропонуємо набрані бали переводити в оцінки, користуючись такою таблицею:

Відповідність отриманих балів оцінкам за 12-бальною шкалою

Бали	1–6	7–12	13–18	19–26	27–34	35–42	43–49	50–56	57–63	64–70	71–77	78–83
Оцінка	1	2	3	4	5	6	7	8	9	10	11	12

Для проведення державної підсумкової атестації вчитель має підготувати для кожного учня окремий варіант завдань цього збірника.

Для відповіді на тестові завдання наводимо зразок бланка відповідей, а також контурну карту, які вчитель може скопіювати в потрібній кількості. Тестовий зошит також містить зразок листка для відповідей на теоретичні запитання.

Матеріали збірника вчитель може використовувати також для підготовки до державної підсумкової атестації дев'ятикласників і під час проведення поточного оцінювання. Учні можуть використовувати матеріали збірника під час підготовки до уроків і державної підсумкової атестації.

I. Завдання з вибором однієї правильної відповіді

1. Зазначте державу, з якою Україна межує на заході:

А Словаччина
Б Словенія

В Білорусь
Г Туреччина

А	Б	В	Г
<input type="checkbox"/>	<input type="checkbox"/>	<input type="checkbox"/>	<input type="checkbox"/>

2. Вкажіть, хто відкрив 1721 р. в Донбасі родовище кам'яного вугілля:

А Володимир Вернадський
Б Григорій Капустін

В Павло Чубинський
Г Степан Рудницький

А	Б	В	Г
<input type="checkbox"/>	<input type="checkbox"/>	<input type="checkbox"/>	<input type="checkbox"/>

3. Визначте масштаб глобуса, якщо на ньому Україна займає площу близько 6,7 см
- ²
- :

А 1 : 30 000 000
Б 1 : 50 000 000

В 1 : 80 000 000
Г 1 : 10 000 000

А	Б	В	Г
<input type="checkbox"/>	<input type="checkbox"/>	<input type="checkbox"/>	<input type="checkbox"/>

4. Оберіть поняття, що відповідає визначенню «час, однаковий на всіх точках певного меридіана»:

А поясний
Б декретний

В літній
Г місцевий

А	Б	В	Г
<input type="checkbox"/>	<input type="checkbox"/>	<input type="checkbox"/>	<input type="checkbox"/>

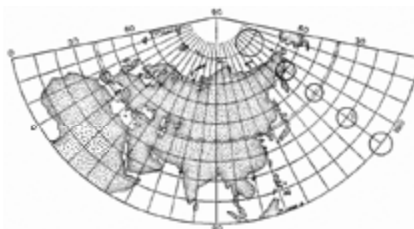
5. Вкажіть, частиною якої тектонічної структури є Український кристалічний щит:

А Західноєвропейська платформа
Б Альпійський складчастий пояс
В Східноєвропейська платформа
Г Скіфська плита

А	Б	В	Г
<input type="checkbox"/>	<input type="checkbox"/>	<input type="checkbox"/>	<input type="checkbox"/>

6. За фрагментом карти визначте назву проекції, у якій зображено земну поверхню:

А азимутальна
Б поліконічна
В конічна
Г циліндрична



А	Б	В	Г
<input type="checkbox"/>	<input type="checkbox"/>	<input type="checkbox"/>	<input type="checkbox"/>

7. Оберіть варіант, у якому перелічено міста України, що стали відомими курортами завдяки їхнім рекреаційним ресурсам:

А Донецьк, Львів, Запоріжжя
Б Київ, Харків, Одеса
В Суми, Чернігів, Тернопіль
Г Миргород, Солотвино, Хмільник

А	Б	В	Г
<input type="checkbox"/>	<input type="checkbox"/>	<input type="checkbox"/>	<input type="checkbox"/>

8. Вкажіть, якою цифрою на картосхемі позначено область з найбільшою густотою населення:

А 1
Б 2
В 3
Г 4



А	Б	В	Г
<input type="checkbox"/>	<input type="checkbox"/>	<input type="checkbox"/>	<input type="checkbox"/>

9. Оберіть варіант, у якому вказано адміністративні області України, що всі межують одна з одною:

- А Київська, Вінницька, Черкаська
- Б Полтавська, Донецька, Сумська
- В Миколаївська, Вінницька, Хмельницька
- Г Черкаська, Запорізька, Одеська

А	Б	В	Г
<input type="checkbox"/>	<input type="checkbox"/>	<input type="checkbox"/>	<input type="checkbox"/>

10. Визначте правильний варіант ланцюга «галузь – підприємство – головний чинник розміщення підприємства»:

- А харчова промисловість – виробництво цукру – кваліфіковані кадри
- Б сільське господарство – виробництво зерна – паливні ресурси
- В гірничовидобувна промисловість – вугільна шахта – наука
- Г лісова промисловість – виробництво меблів – споживач

А	Б	В	Г
<input type="checkbox"/>	<input type="checkbox"/>	<input type="checkbox"/>	<input type="checkbox"/>

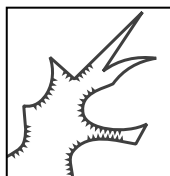
11. Вкажіть правильне поєднання економічного району з його спеціалізацією:

- А Карпатський – важке машинобудування
- Б Донецький – вирощування зернових
- В Придніпровський – чорна металургія
- Г Північно-Східний – курортне господарство

А	Б	В	Г
<input type="checkbox"/>	<input type="checkbox"/>	<input type="checkbox"/>	<input type="checkbox"/>

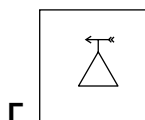
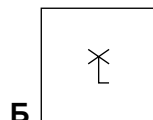
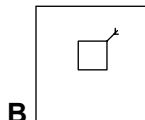
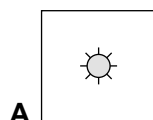
12. Зазначте, яку форму рельєфу зображено на малюнку:

- А кар'єр
- Б яр
- В западина
- Г урвище



А	Б	В	Г
<input type="checkbox"/>	<input type="checkbox"/>	<input type="checkbox"/>	<input type="checkbox"/>

13. З'ясуйте, яким умовним знаком на плані місцевості чи топографічній карті зображують метеостанцію:



А	Б	В	Г
<input type="checkbox"/>	<input type="checkbox"/>	<input type="checkbox"/>	<input type="checkbox"/>

14. Зазначте країну, з якою Україна має найдовший кордон:

- А Польща
- Б Білорусь
- В Росія
- Г Румунія

А	Б	В	Г
<input type="checkbox"/>	<input type="checkbox"/>	<input type="checkbox"/>	<input type="checkbox"/>

15. Визначте, до якого типу рельєфу відносять пагорби-останці, пасма, уступи, куести:

- А карстовий
- Б алювіальний
- В льодовиковий
- Г денудаційний

А	Б	В	Г
<input type="checkbox"/>	<input type="checkbox"/>	<input type="checkbox"/>	<input type="checkbox"/>

16. Вкажіть, яка з річок є другою за довжиною в Україні:

- А Дніпро
- Б Південний Буг
- В Дунай
- Г Дністер

А	Б	В	Г
<input type="checkbox"/>	<input type="checkbox"/>	<input type="checkbox"/>	<input type="checkbox"/>



17. Зазначте державу світу, у якій проживає найчисленніша українська діаспора:

А Казахстан
Б Росія

В Канада
Г США

А	Б	В	Г

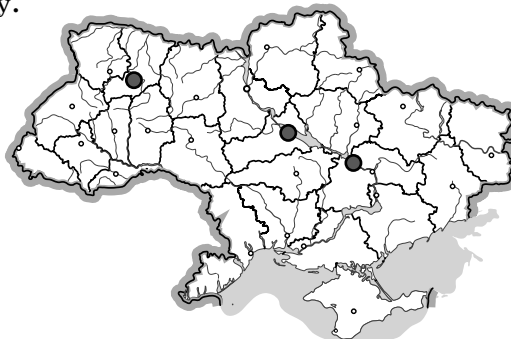
18. Вкажіть найдешевший вид транспорту серед зазначених:

А залізничний
Б морський

В автомобільний
Г авіаційний

А	Б	В	Г

19. Розгляньте картосхему, на якій позначено центри хімічної промисловості, і підберіть їй відповідну назву.



А виробництво азотних добрив
Б виробництво кислот
В виробництво калійних добрив
Г виробництво фосфатних добрив

А	Б	В	Г

20. Назвіть область України, на території якої розташована Старобешівська ДРЕС:

А Вінницька
В Полтавська

Б Донецька
Г Черкаська

А	Б	В	Г

II. Завдання на визначення відповідності

У завданнях 21–25 до кожного із завдань, позначених цифрою, доберіть правильну відповідь, позначену буквою. Потім відповідність цифр і букв перенесіть у бланк відповідей.

21. Вкажіть відповідність між об'єктами природно-заповідного фонду та областями України, у межах яких вони розташовані:

- 1 Природний заповідник «Розточчя»
2 Шацький національний природний парк
3 Український степовий природний заповідник
4 Регіональний ландшафтний парк «Меотида»

А Харківська
Б Волинська
В Львівська
Г Донецька
Д Вінницька

	А	Б	В	Г	Д
1					
2					
3					
4					

22. Визначте відповідність між назвами тектонічних структур та їхнім розміщенням:

- 1 Скіфська платформа
2 Дніпровсько-Донецька западина
3 Український щит
4 Причорноморська западина

А на півночі межує з Українським щитом
Б розташована на лівому березі Дніпра
В розташована в північній частині Кримського півострова
Г розташована на крайньому південному сході України
Д охоплює найбільшу частину території України

	А	Б	В	Г	Д
1					
2					
3					
4					

23. Визначте відповідність між географічними чинниками і особливостями клімату України:

- | | |
|----------------------------|---|
| 1 географічна широта | А зростання континентальності |
| 2 віддаленість від океанів | Б робить територію відкритою чи закритою, створює перепону на шляху повітряних мас |
| 3 рельєф території | В визначає кількість сонячної енергії |
| 4 абсолютна висота | Г континентальність клімату зменшується |
| | Д з висотою температура знижується |

	А	Б	В	Г	Д
1	<input type="checkbox"/>	<input type="checkbox"/>	<input type="checkbox"/>	<input type="checkbox"/>	<input type="checkbox"/>
2	<input type="checkbox"/>	<input type="checkbox"/>	<input type="checkbox"/>	<input type="checkbox"/>	<input type="checkbox"/>
3	<input type="checkbox"/>	<input type="checkbox"/>	<input type="checkbox"/>	<input type="checkbox"/>	<input type="checkbox"/>
4	<input type="checkbox"/>	<input type="checkbox"/>	<input type="checkbox"/>	<input type="checkbox"/>	<input type="checkbox"/>

24. Визначте відповідність між сільськогосподарськими культурами та областями, де їх переважно вирощують:

- | | |
|------------------|---------------------------|
| 1 цукрові буряки | А Чернігівська |
| 2 жито | Б Донецька |
| 3 виноград | В Вінницька |
| 4 пшениця | Г Закарпатська |
| | Д Дніпропетровська |

	А	Б	В	Г	Д
1	<input type="checkbox"/>	<input type="checkbox"/>	<input type="checkbox"/>	<input type="checkbox"/>	<input type="checkbox"/>
2	<input type="checkbox"/>	<input type="checkbox"/>	<input type="checkbox"/>	<input type="checkbox"/>	<input type="checkbox"/>
3	<input type="checkbox"/>	<input type="checkbox"/>	<input type="checkbox"/>	<input type="checkbox"/>	<input type="checkbox"/>
4	<input type="checkbox"/>	<input type="checkbox"/>	<input type="checkbox"/>	<input type="checkbox"/>	<input type="checkbox"/>

25. Вкажіть відповідність між галузями машинобудування та їхніми центрами:

- | | |
|-----------------------|--------------------|
| 1 автомобілебудування | А Запоріжжя |
| 2 літакобудування | Б Миколаїв |
| 3 вагонобудування | В Суми |
| 4 суднобудування | Г Харків |
| | Д Маріуполь |

	А	Б	В	Г	Д
1	<input type="checkbox"/>	<input type="checkbox"/>	<input type="checkbox"/>	<input type="checkbox"/>	<input type="checkbox"/>
2	<input type="checkbox"/>	<input type="checkbox"/>	<input type="checkbox"/>	<input type="checkbox"/>	<input type="checkbox"/>
3	<input type="checkbox"/>	<input type="checkbox"/>	<input type="checkbox"/>	<input type="checkbox"/>	<input type="checkbox"/>
4	<input type="checkbox"/>	<input type="checkbox"/>	<input type="checkbox"/>	<input type="checkbox"/>	<input type="checkbox"/>

III. Завдання з вибором трьох правильних відповідей

Завдання 26–28 містять по сім варіантів відповідей, з яких лише **ТРИ** правильні. Потрібно вибрати три правильні, на вашу думку, відповіді і позначити їх у бланку відповідей.

26. Виберіть три притоки Дніпра:

- | | |
|------------|-------------------|
| 1 Кальміус | 5 Прип'ять |
| 2 Ворскла | 6 Молочна |
| 3 Інгул | 7 Салгир |
| 4 Десна | |

<input type="checkbox"/>	<input type="checkbox"/>	<input type="checkbox"/>
--------------------------	--------------------------	--------------------------

27. Виберіть три найчисленніші національні меншини, що проживають в Україні:

- | | |
|------------|------------------|
| 1 росіяни | 5 литовці |
| 2 італійці | 6 якути |
| 3 поляки | 7 євреї |
| 4 німці | |

<input type="checkbox"/>	<input type="checkbox"/>	<input type="checkbox"/>
--------------------------	--------------------------	--------------------------

28. Виберіть три низовини України:

- | | |
|--------------------|----------------------------|
| 1 Закарпатська | 5 Нижньодунайська |
| 2 Західносибірська | 6 Причорноморська |
| 3 Поліська | 7 Середньодунайська |
| 4 Прикубанська | |

<input type="checkbox"/>	<input type="checkbox"/>	<input type="checkbox"/>
--------------------------	--------------------------	--------------------------



IV. Завдання відкритого типу

Завдання 29–31 передбачають розгорнуту відповідь на поставлені запитання з відповідним записом у бланку відповідей.

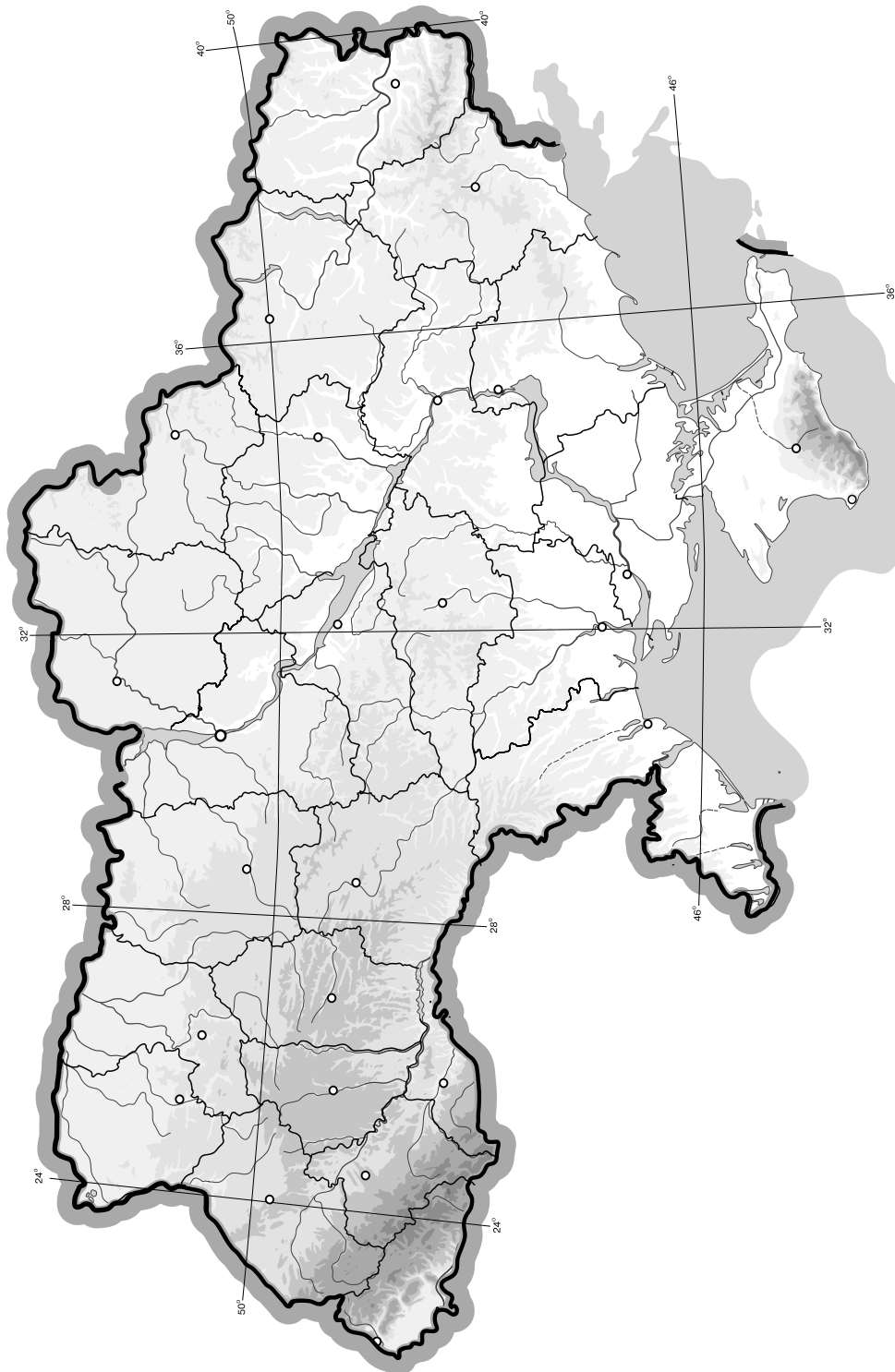
- 29.** Назвіть ознаки, за якими класифікують географічні карти. Наведіть приклади.
- 30.** Поясніть закономірності розподілу населення на території України.
- 31*.** Охарактеризуйте спеціалізацію сільського господарства Причорноморського економічного району.

[illegible]

V. Завдання на контурній карті

Завдання 32 має картографічний характер і передбачає нанесення на карту інформації відповідно до завдання та розробку легенди карти (записи на карті й легенда подаються тим самим кольором ручки, яким виконується все тестове завдання).

- 32.** Позначте на контурній карті по 2 родовища нерудних корисних копалин (кам'яна сіль, калійна сіль, сірка, мінеральні води, лікувальні грязі).



I. Завдання з вибором однієї правильної відповіді

1. Зазначте, у якому творі вперше згадується назва «Україна»:

А Київський літопис
 Б книжка Г. де Боплана «Опис України»
 В праці Гіппократа
 Г описи візантійських та арабських мандрівників

А	Б	В	Г
<input type="checkbox"/>	<input type="checkbox"/>	<input type="checkbox"/>	<input type="checkbox"/>

2. Визначте, у якому часовому поясі розташована більша частина території України:

А у першому
 Б у другому
 В у третьому
 Г у четвертому

А	Б	В	Г
<input type="checkbox"/>	<input type="checkbox"/>	<input type="checkbox"/>	<input type="checkbox"/>

3. Вкажіть площу України:

А 703,4 тис. км²
 Б 487,5 тис. км²
 В 560,8 тис. км²
 Г 603,7 тис. км²

А	Б	В	Г
<input type="checkbox"/>	<input type="checkbox"/>	<input type="checkbox"/>	<input type="checkbox"/>

4. Визначте масштаб топографічної карти, на якій 1 см
- ²
- дорівнює 25 га на місцевості:

А 1 : 100 000
 Б 1 : 10 000
 В 1 : 25 000
 Г 1 : 50 000

А	Б	В	Г
<input type="checkbox"/>	<input type="checkbox"/>	<input type="checkbox"/>	<input type="checkbox"/>

5. Визначте максимально можливу висоту Сонця над горизонтом опівдні на території України.

А 63°
 Б 44°
 В 52°
 Г 69°

А	Б	В	Г
<input type="checkbox"/>	<input type="checkbox"/>	<input type="checkbox"/>	<input type="checkbox"/>

6. Оберіть країни, з якими Україна межує на півночі:

А Росія, Білорусь
 Б Молдова, Румунія
 В Польща, Словаччина
 Г Росія, Угорщина

А	Б	В	Г
<input type="checkbox"/>	<input type="checkbox"/>	<input type="checkbox"/>	<input type="checkbox"/>

7. Вкажіть основний тип ґрунтів зони мішаних лісів України:

А дерново-підзолисті
 Б сірі лісові
 В чорноземи
 Г каштанові

А	Б	В	Г
<input type="checkbox"/>	<input type="checkbox"/>	<input type="checkbox"/>	<input type="checkbox"/>

8. Вкажіть, якою цифрою на картосхемі позначено область з найменшою часткою сільських мешканців (у %):

А 1
 Б 2
 В 3
 Г 4



А	Б	В	Г
<input type="checkbox"/>	<input type="checkbox"/>	<input type="checkbox"/>	<input type="checkbox"/>

9. Оберіть варіант, у якому вказано адміністративні області України, що межують одна з одною:

- А** Вінницька, Житомирська, Київська
Б Львівська, Тернопільська, Полтавська
В Дніпропетровська, Одеська, Полтавська
Г Рівненська, Волинська, Закарпатська

А	Б	В	Г

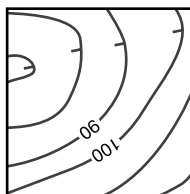
10. Оберіть варіант, у якому вказано правильне поєднання економічного району та його спеціалізації:

- А** Північно-Західний – зернове господарство
Б Причорноморський – курортне господарство
В Столичний – чорна металургія
Г Подільський – енергетика

А	Б	В	Г

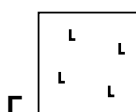
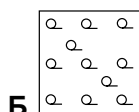
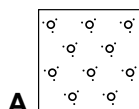
11. Зазначте, яку форму рельєфу зображено на малюнку:

- А** яр
Б западина
В поле
Г горб



А	Б	В	Г

12. Оберіть умовний знак, яким на топографічній карті зображують кущі та чагарники:



А	Б	В	Г

13. Зазначте, якою є протяжність території України з півночі на південь:

- А** 1974 км
Б 1316 км
В 893 км
Г 1050 км

А	Б	В	Г

14. Виберіть правильне визначення поняття «географічна карта»:

- А** зменшене, узагальнене, умовно-знакове зображення земної поверхні (інших небесних тіл, небесної сфери), виконане в певному масштабі й певній проекції
Б зменшене або збільшене зображення земної поверхні за допомогою умовних знаків у якійсь із картографічних проекцій
В зменшене зображення земної поверхні на папері за допомогою масштабу, умовних знаків, проекцій
Г зменшене, генералізоване зображення земної поверхні або її ділянки за допомогою умовних знаків

А	Б	В	Г

15. Зазначте, до якого типу рельєфу відносять моренні горби, зандрові рівнини, долини стоку талих вод:

- А** тектонічний
Б еоловий
В карстовий
Г льодовиковий

А	Б	В	Г

16. Вкажіть, який з лиманів є найбільшим за площею:

- А** Хаджибейський
Б Куяльницький
В Тилігульський
Г Дністровський

А	Б	В	Г





17. Зазначте, яке з перелічених кліматичних явищ є несприятливим для сільського господарства степової частини України:

А гроза
Б суховії

В туман
Г сильні снігопади

А	Б	В	Г
<input type="checkbox"/>	<input type="checkbox"/>	<input type="checkbox"/>	<input type="checkbox"/>

18. Оберіть правильне твердження щодо особливостей клімату України:

А континентальність клімату зростає зі сходу на захід
Б на більшій частині території країни переважає західне перенесення повітряних мас
В річна кількість опадів зростає із заходу на схід
Г більшість території держави розташована в субтропічному поясі

А	Б	В	Г
<input type="checkbox"/>	<input type="checkbox"/>	<input type="checkbox"/>	<input type="checkbox"/>

19. Оберіть представників тваринного світу, характерних для степової природної зони України:

А глухар, бобр, лось
Б олень, сайгак, лисиця
В байбак, куріпка, сокіл
Г борсук, лелека чорний, ведмідь

А	Б	В	Г
<input type="checkbox"/>	<input type="checkbox"/>	<input type="checkbox"/>	<input type="checkbox"/>

20. Вкажіть галузь промисловості України, підприємства якої є найбільшим забруднювачем атмосферного повітря:

А лісова
Б теплоелектроенергетика
В машинобудівна
Г харчова

А	Б	В	Г
<input type="checkbox"/>	<input type="checkbox"/>	<input type="checkbox"/>	<input type="checkbox"/>

II. Завдання на визначення відповідності

У завданнях 21–25 до кожного із завдань, позначених цифрою, доберіть правильну відповідь, позначену буквою. Потім відповідність цифр і букв перенесіть у бланк відповідей.

21. Вкажіть відповідність між природними об'єктами та областями України, у межах яких вони розташовані:

1 Дунайський біосферний заповідник
2 Біосферний заповідник «Асканія-Нова»
3 Ужанський національний природний парк
4 гора Берда

А Волинська
Б Закарпатська
В Чернівецька
Г Одеська
Д Херсонська

	А	Б	В	Г	Д
1	<input type="checkbox"/>	<input type="checkbox"/>	<input type="checkbox"/>	<input type="checkbox"/>	<input type="checkbox"/>
2	<input type="checkbox"/>	<input type="checkbox"/>	<input type="checkbox"/>	<input type="checkbox"/>	<input type="checkbox"/>
3	<input type="checkbox"/>	<input type="checkbox"/>	<input type="checkbox"/>	<input type="checkbox"/>	<input type="checkbox"/>
4	<input type="checkbox"/>	<input type="checkbox"/>	<input type="checkbox"/>	<input type="checkbox"/>	<input type="checkbox"/>

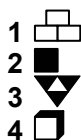
22. Вкажіть відповідність між адміністративними одиницями України та назвами їхніх центрів:

1 Волинська обл.
2 Закарпатська обл.
3 АР Крим
4 Хмельницька обл.

А Хмельницький
Б Луцьк
В Севастополь
Г Ужгород
Д Сімферополь

	А	Б	В	Г	Д
1	<input type="checkbox"/>	<input type="checkbox"/>	<input type="checkbox"/>	<input type="checkbox"/>	<input type="checkbox"/>
2	<input type="checkbox"/>	<input type="checkbox"/>	<input type="checkbox"/>	<input type="checkbox"/>	<input type="checkbox"/>
3	<input type="checkbox"/>	<input type="checkbox"/>	<input type="checkbox"/>	<input type="checkbox"/>	<input type="checkbox"/>
4	<input type="checkbox"/>	<input type="checkbox"/>	<input type="checkbox"/>	<input type="checkbox"/>	<input type="checkbox"/>

23. Визначте відповідність між позначеннями корисних копалин та тектонічними структурами України, у межах яких вони залягають:



- А Український щит
Б Донецька складчаста структура
В Дніпровсько-Донецька западина
Г Скіфська плита
Д Передкарпатський прогин

	А	Б	В	Г	Д
1	<input type="checkbox"/>	<input type="checkbox"/>	<input type="checkbox"/>	<input type="checkbox"/>	<input type="checkbox"/>
2	<input type="checkbox"/>	<input type="checkbox"/>	<input type="checkbox"/>	<input type="checkbox"/>	<input type="checkbox"/>
3	<input type="checkbox"/>	<input type="checkbox"/>	<input type="checkbox"/>	<input type="checkbox"/>	<input type="checkbox"/>
4	<input type="checkbox"/>	<input type="checkbox"/>	<input type="checkbox"/>	<input type="checkbox"/>	<input type="checkbox"/>

24. Вкажіть відповідність між сільськогосподарськими культурами та областями, де їх вирощують:

- 1 картопля
2 цукровий буряк
3 рис
4 соняшник

- А Вінницька
Б Дніпропетровська
В Херсонська
Г Закарпатська
Д Чернігівська

	А	Б	В	Г	Д
1	<input type="checkbox"/>	<input type="checkbox"/>	<input type="checkbox"/>	<input type="checkbox"/>	<input type="checkbox"/>
2	<input type="checkbox"/>	<input type="checkbox"/>	<input type="checkbox"/>	<input type="checkbox"/>	<input type="checkbox"/>
3	<input type="checkbox"/>	<input type="checkbox"/>	<input type="checkbox"/>	<input type="checkbox"/>	<input type="checkbox"/>
4	<input type="checkbox"/>	<input type="checkbox"/>	<input type="checkbox"/>	<input type="checkbox"/>	<input type="checkbox"/>

25. Визначте відповідність між продукцією хімічної промисловості та центрами, у яких її виробляють:

- 1 азотні добрива
2 фосфатні добрива
3 сірчана кислота
4 анілінові фарби

- А Одеса
Б Костянтинівка
В Лисичанськ
Г Рубіжне
Д Київ

	А	Б	В	Г	Д
1	<input type="checkbox"/>	<input type="checkbox"/>	<input type="checkbox"/>	<input type="checkbox"/>	<input type="checkbox"/>
2	<input type="checkbox"/>	<input type="checkbox"/>	<input type="checkbox"/>	<input type="checkbox"/>	<input type="checkbox"/>
3	<input type="checkbox"/>	<input type="checkbox"/>	<input type="checkbox"/>	<input type="checkbox"/>	<input type="checkbox"/>
4	<input type="checkbox"/>	<input type="checkbox"/>	<input type="checkbox"/>	<input type="checkbox"/>	<input type="checkbox"/>

III. Завдання з вибором трьох правильних відповідей

Завдання 26–28 містять по сім варіантів відповідей, з яких лише ТРИ правильні. Потрібно вибрати три правильні, на вашу думку, відповіді і позначити їх у бланку відповідей.

26. Виберіть три річки України:

- 1 Вісла
2 Волга
3 Дністер
4 Південний Буг
5 Дон
6 Кубань
7 Інгул

<input type="checkbox"/>	<input type="checkbox"/>	<input type="checkbox"/>
--------------------------	--------------------------	--------------------------

27. Серед міст України виберіть три, у яких розвинуте транспортне машинобудування:

- 1 Запоріжжя
2 Полтава
3 Луцьк
4 Чернівці
5 Трускавець
6 Саки
7 Харків

<input type="checkbox"/>	<input type="checkbox"/>	<input type="checkbox"/>
--------------------------	--------------------------	--------------------------

28. Виберіть назви трьох українських портів на Чорному морі:

- 1 Маріуполь
2 Іллічівськ
3 Севастополь
4 Рені
5 Одеса
6 Бердянськ
7 Каховка

<input type="checkbox"/>	<input type="checkbox"/>	<input type="checkbox"/>
--------------------------	--------------------------	--------------------------



Завдання 29–31 передбачають розгорнуту відповідь на поставлені запитання з відповідним записом у бланку відповідей.

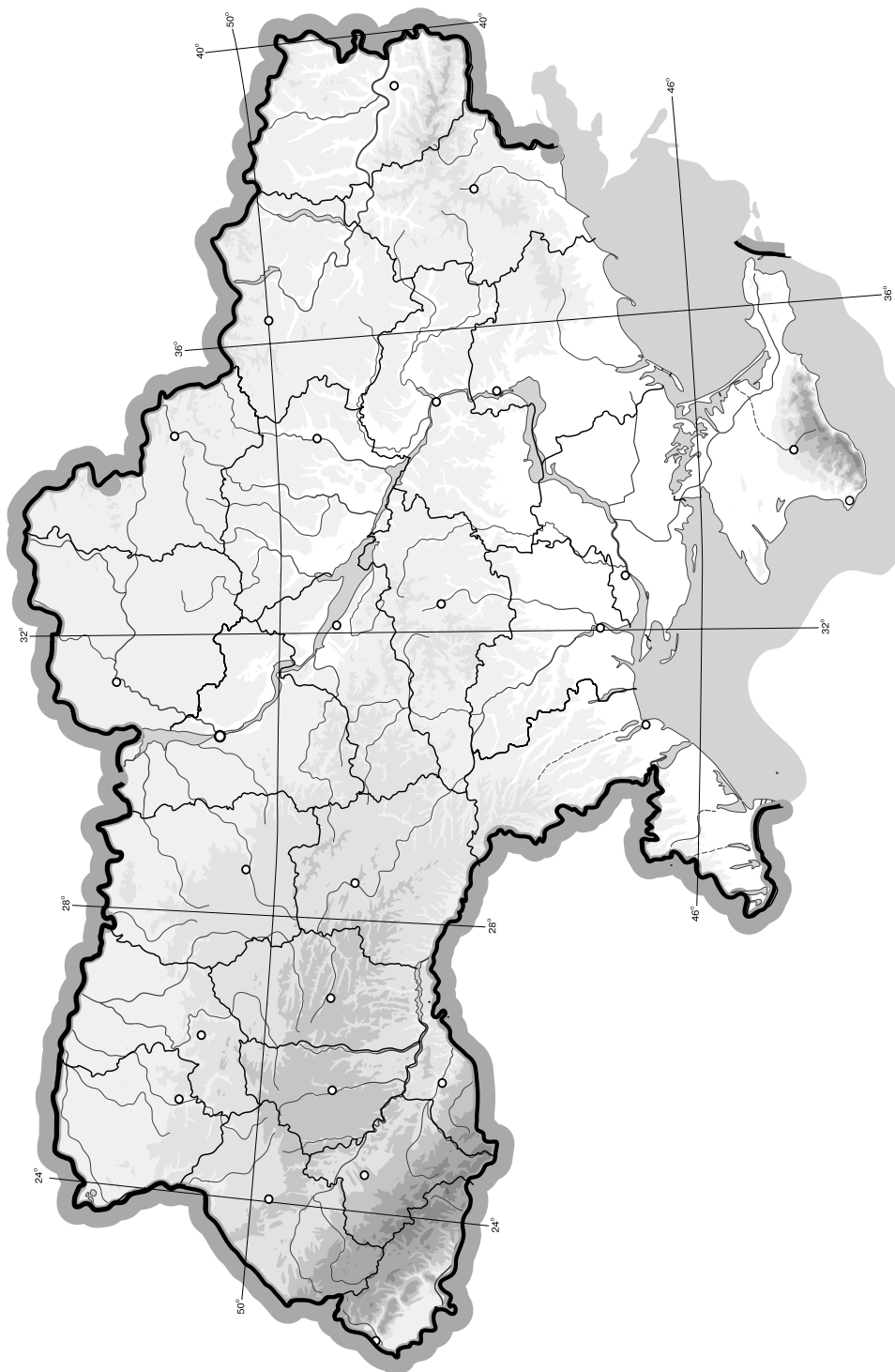
29. Проаналізуйте особливості розподілу опадів на території України.
30. Чим відрізняються трудові ресурси від економічно активного населення?
- 31*. Які, на вашу думку, галузі сільського господарства слід розвивати в Україні високими темпами для задоволення потреб населення і поліпшення структури харчування?

[illegible]

V. Завдання на контурній карті

Завдання 32 має картографічний характер і передбачає нанесення на карту інформації відповідно до завдання та розробку легенди карти (записи на карті й легенда подаються тим самим кольором ручки, яким виконується все тестове завдання).

- 32.** Позначте на контурній карті України головні ТЕС, ГЕС та АЕС. (По 4 приклади до кожного типу.)



I. Завдання з вибором однієї правильної відповіді

1. Вкажіть крайню східну точку України:

- А** смт Мілове Луганської обл.
Б с. Червона Зірка Луганської обл.
В м. Свердловськ Луганської обл.
Г с. Бірюкове Луганської обл.

А	Б	В	Г
<input type="checkbox"/>	<input type="checkbox"/>	<input type="checkbox"/>	<input type="checkbox"/>

2. Зазначте, з якими країнами Україна межує на південному заході:

- А** Угорщина, Польща
Б Болгарія, Молдова
В Молдова, Румунія
Г Словаччина, Росія

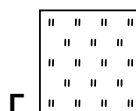
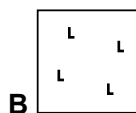

А	Б	В	Г
<input type="checkbox"/>	<input type="checkbox"/>	<input type="checkbox"/>	<input type="checkbox"/>

3. Зазначте, хто з дослідників написав книжку «Опис України»:

- А** Клавдій Птоломей
Б Страбон
В Гійом де Боплан
Г Пліній Старший

А	Б	В	Г
<input type="checkbox"/>	<input type="checkbox"/>	<input type="checkbox"/>	<input type="checkbox"/>

4. Оберіть умовний знак, яким на топографічній карті зображують зрубаний ліс:



А	Б	В	Г
<input type="checkbox"/>	<input type="checkbox"/>	<input type="checkbox"/>	<input type="checkbox"/>

5. Визначте варіант, де правильно вказано послідовність геологічних ер:

А		Б		В		Г	
↑	...	↑	...	↑	...	↑	...
	Кайнозой		Мезозой		Архей		Палеозой
	Мезозой		Палеозой		Протерозой		Кайнозой
	Архей		Протерозой		Палеозой		Мезозой
	Палеозой		Архей		Мезозой		Протерозой

А	Б	В	Г
<input type="checkbox"/>	<input type="checkbox"/>	<input type="checkbox"/>	<input type="checkbox"/>

6. Зазначте, коли відбулося проголошення незалежності України:

- А** 1917 р.
Б 1991 р.
В 1945 р.
Г 1922 р.

А	Б	В	Г
<input type="checkbox"/>	<input type="checkbox"/>	<input type="checkbox"/>	<input type="checkbox"/>

7. Які моря омивають територію України?

- А** Чорне і Балтійське
Б Мармурове і Біле
В Чорне і Азовське
Г Адріатичне і Середземне

А	Б	В	Г
<input type="checkbox"/>	<input type="checkbox"/>	<input type="checkbox"/>	<input type="checkbox"/>

8. Вкажіть ім'я відомого вченого, який досліджував ґрунти в Україні:

- А** Володимир Вернадський
Б Василь Докучаєв
В Олександр Воейков
Г Павло Тутковський

А	Б	В	Г
<input type="checkbox"/>	<input type="checkbox"/>	<input type="checkbox"/>	<input type="checkbox"/>

9. Зазначте, яка частка території України припадає на низовини:

- A** 50 %
Б 70 %

- В** 90 %
Г 10 %

А	Б	В	Г
<input type="checkbox"/>	<input type="checkbox"/>	<input type="checkbox"/>	<input type="checkbox"/>

10. Визначте, на карті якого масштабу парк охоплюватиме площу 1 см², якщо на іншій карті, масштаб якої 1 : 10 000, він охоплює 25 см²:

- A** 1 : 100 000
Б 1 : 50 000

- В** 1 : 25 000
Г 1 : 250 000

А	Б	В	Г
<input type="checkbox"/>	<input type="checkbox"/>	<input type="checkbox"/>	<input type="checkbox"/>

11. Оберіть групу міст України, що стали відомими курортами завдяки лікувальним властивостям мінеральних джерел:

- A** Бердичів, Хмельник, Рівне
Б Житомир, Харків, Суми
В Донецьк, Сімферополь, Умань
Г Трускавець, Миргород, Свалява

А	Б	В	Г
<input type="checkbox"/>	<input type="checkbox"/>	<input type="checkbox"/>	<input type="checkbox"/>

12. Оберіть варіант, у якому вказано адміністративні області України, що межують одна з одною:

- A** Львівська, Закарпатська, Одеська
Б Херсонська, Миколаївська, Київська
В Черкаська, Харківська, Луганська
Г Волинська, Рівненська, Львівська

А	Б	В	Г
<input type="checkbox"/>	<input type="checkbox"/>	<input type="checkbox"/>	<input type="checkbox"/>

13. Оберіть правильний варіант ланцюга «галузь – продукція – основний чинник розміщення»:

- A** хімічна промисловість – мінеральні добрива – споживач
Б будівельна промисловість – житло – наука
В харчова промисловість – макарони – кваліфіковані кадри
Г сільське господарство – вирощування рису – наука

А	Б	В	Г
<input type="checkbox"/>	<input type="checkbox"/>	<input type="checkbox"/>	<input type="checkbox"/>

14. Вкажіть правильне поєднання економічного району і його спеціалізації:

- A** Столичний – виробництво зерна
Б Північно-Західний – фармацевтична промисловість
В Придніпровський – птахівництво
Г Донецький – паливно-енергетична промисловість

А	Б	В	Г
<input type="checkbox"/>	<input type="checkbox"/>	<input type="checkbox"/>	<input type="checkbox"/>

15. Зазначте, під впливом яких чинників сформувався сучасний рельєф України:

- A** ендегенних і екзогенних
Б льодовиків і води
В вітру і води
Г вулканізму і гравітації

А	Б	В	Г
<input type="checkbox"/>	<input type="checkbox"/>	<input type="checkbox"/>	<input type="checkbox"/>

16. Оберіть пару населених пунктів України, які є містами загальнодержавного підпорядкування:

- A** Київ і Сімферополь
Б Харків і Львів
В Сімферополь і Ужгород
Г Севастополь і Київ

А	Б	В	Г
<input type="checkbox"/>	<input type="checkbox"/>	<input type="checkbox"/>	<input type="checkbox"/>

17. Зазначте, у якому кліматичному поясі розташована більша частина території України:

- A** Арктичний
Б Субарктичний
В Помірний
Г Субтропічний

А	Б	В	Г
<input type="checkbox"/>	<input type="checkbox"/>	<input type="checkbox"/>	<input type="checkbox"/>



18. Зазначте, які ґрунти є типовими в гірській місцевості Карпат:

- А чорноземи
Б сірі лісові
В дерново-підзолисті
Г бурі лісові

А	Б	В	Г
<input type="checkbox"/>	<input type="checkbox"/>	<input type="checkbox"/>	<input type="checkbox"/>

19. Визначте економічний район, для якого характерним є переважання машинобудування і металообробки, хімічної, паливної, лісової та деревообробної, легкої, харчової промисловості та багатофункціонального сільського господарства:

- А Карпатський
Б Причорноморський
В Донецький
Г Північно-Східний

А	Б	В	Г
<input type="checkbox"/>	<input type="checkbox"/>	<input type="checkbox"/>	<input type="checkbox"/>

20. Оберіть неправильне твердження:

- А найбільший вантажообіг в Україні припадає на залізничний транспорт
Б ефективність перевезення вантажів автомобільним транспортом зростає з відстанню
В найдешевші перевезення вантажів здійснюються водним транспортом
Г найбільший пасажирообіг в Україні припадає на автомобільний транспорт

А	Б	В	Г
<input type="checkbox"/>	<input type="checkbox"/>	<input type="checkbox"/>	<input type="checkbox"/>

II. Завдання на визначення відповідності

У завданнях 21–25 до кожного із завдань, позначених цифрою, доберіть правильну відповідь, позначену буквою. Потім відповідність цифр і букв перенесіть у бланк відповідей.

21. Вкажіть відповідність між природоохоронними об'єктами та фізико-географічними одиницями, на території яких вони розташовані:

- 1 Долина нарцисів
2 Черемський природний заповідник
3 «Михайлівська цілина»
4 «Мис Март'ян»

- А мішані і широколисті ліси
Б степ
В Українські Карпати
Г Кримські гори
Д лісостеп

	А	Б	В	Г	Д
1	<input type="checkbox"/>	<input type="checkbox"/>	<input type="checkbox"/>	<input type="checkbox"/>	<input type="checkbox"/>
2	<input type="checkbox"/>	<input type="checkbox"/>	<input type="checkbox"/>	<input type="checkbox"/>	<input type="checkbox"/>
3	<input type="checkbox"/>	<input type="checkbox"/>	<input type="checkbox"/>	<input type="checkbox"/>	<input type="checkbox"/>
4	<input type="checkbox"/>	<input type="checkbox"/>	<input type="checkbox"/>	<input type="checkbox"/>	<input type="checkbox"/>

22. Визначте відповідність між тектонічними структурами та формами рельєфу:

- 1 Східноєвропейська платформа
2 Волино-Подільська плита
3 Скіфська платформа
4 Середземноморський рухливий пояс

- А Рівнинний Крим
Б Карпатські, Кримські гори
В Придніпровська височина
Г Волинська височина
Д Донецький кряж

	А	Б	В	Г	Д
1	<input type="checkbox"/>	<input type="checkbox"/>	<input type="checkbox"/>	<input type="checkbox"/>	<input type="checkbox"/>
2	<input type="checkbox"/>	<input type="checkbox"/>	<input type="checkbox"/>	<input type="checkbox"/>	<input type="checkbox"/>
3	<input type="checkbox"/>	<input type="checkbox"/>	<input type="checkbox"/>	<input type="checkbox"/>	<input type="checkbox"/>
4	<input type="checkbox"/>	<input type="checkbox"/>	<input type="checkbox"/>	<input type="checkbox"/>	<input type="checkbox"/>

23. Вкажіть відповідність між містами та чисельністю населення в них (за даними перепису 2001 р.):

- | | |
|-------------------|-------------------------|
| 1 Львів | A 260 тис. осіб |
| 2 Дніпропетровськ | B 117 тис. осіб |
| 3 Кіровоград | B 760 тис. осіб |
| 4 Ужгород | Г 1080 тис. осіб |
| | Д 57 тис. осіб |

	А	Б	В	Г	Д
1	<input type="checkbox"/>	<input type="checkbox"/>	<input type="checkbox"/>	<input type="checkbox"/>	<input type="checkbox"/>
2	<input type="checkbox"/>	<input type="checkbox"/>	<input type="checkbox"/>	<input type="checkbox"/>	<input type="checkbox"/>
3	<input type="checkbox"/>	<input type="checkbox"/>	<input type="checkbox"/>	<input type="checkbox"/>	<input type="checkbox"/>
4	<input type="checkbox"/>	<input type="checkbox"/>	<input type="checkbox"/>	<input type="checkbox"/>	<input type="checkbox"/>

24. Знайдіть відповідність між назвами транспортних засобів і центрами їх виробництва:

- | | |
|-------------|---------------------------|
| 1 літаки | A Дніпродзержинськ |
| 2 автобуси | Б Львів |
| 3 вагони | В Київ |
| 4 тепловози | Г Полтава |
| | Д Луганськ |

	А	Б	В	Г	Д
1	<input type="checkbox"/>	<input type="checkbox"/>	<input type="checkbox"/>	<input type="checkbox"/>	<input type="checkbox"/>
2	<input type="checkbox"/>	<input type="checkbox"/>	<input type="checkbox"/>	<input type="checkbox"/>	<input type="checkbox"/>
3	<input type="checkbox"/>	<input type="checkbox"/>	<input type="checkbox"/>	<input type="checkbox"/>	<input type="checkbox"/>
4	<input type="checkbox"/>	<input type="checkbox"/>	<input type="checkbox"/>	<input type="checkbox"/>	<input type="checkbox"/>

25. Визначте відповідність між назвами торговельних марок харчової промисловості та центрами їх розміщення:

- | | |
|-------------|--------------------------|
| 1 «Світоч» | A Дніпропетровськ |
| 2 «Сандора» | Б Миколаїв |
| 3 «Рошен» | В Київ |
| 4 «Олейна» | Г Сімферополь |
| | Д Львів |

	А	Б	В	Г	Д
1	<input type="checkbox"/>	<input type="checkbox"/>	<input type="checkbox"/>	<input type="checkbox"/>	<input type="checkbox"/>
2	<input type="checkbox"/>	<input type="checkbox"/>	<input type="checkbox"/>	<input type="checkbox"/>	<input type="checkbox"/>
3	<input type="checkbox"/>	<input type="checkbox"/>	<input type="checkbox"/>	<input type="checkbox"/>	<input type="checkbox"/>
4	<input type="checkbox"/>	<input type="checkbox"/>	<input type="checkbox"/>	<input type="checkbox"/>	<input type="checkbox"/>

III. Завдання з вибором трьох правильних відповідей

Завдання 26–28 містять по сім варіантів відповідей, з яких лише **ТРИ** правильні. Потрібно вибрати три правильні, на вашу думку, відповіді і позначити їх у бланку відповідей.

26. Виберіть три країни із численною українською діаспорою:

- | | |
|------------|--------------------|
| 1 Литва | 5 Німеччина |
| 2 Угорщина | 6 Казахстан |
| 3 Польща | 7 Болгарія |
| 4 Росія | |

<input type="checkbox"/>	<input type="checkbox"/>	<input type="checkbox"/>
--------------------------	--------------------------	--------------------------

27. Виберіть три штучні водосховища на р. Дніпро:

- | | |
|----------------|----------------------------|
| 1 Канівське | 5 Червонооскільське |
| 2 Бузьке | 6 Каховське |
| 3 Дністровське | 7 Ладижинське |
| 4 Кременчуцьке | |

<input type="checkbox"/>	<input type="checkbox"/>	<input type="checkbox"/>
--------------------------	--------------------------	--------------------------

28. Серед міст України виберіть три, у яких розвинута хімічна промисловість:

- | | |
|-----------------|---------------------|
| 1 Одеса | 5 Лисичанськ |
| 2 Конотоп | 6 Ялта |
| 3 Чернігів | 7 Ужгород |
| 4 Костянтинівка | |

<input type="checkbox"/>	<input type="checkbox"/>	<input type="checkbox"/>
--------------------------	--------------------------	--------------------------



IV. Завдання відкритого типу

Завдання 29–31 передбачають розгорнуту відповідь на поставлені запитання з відповідним записом у бланку відповідей.

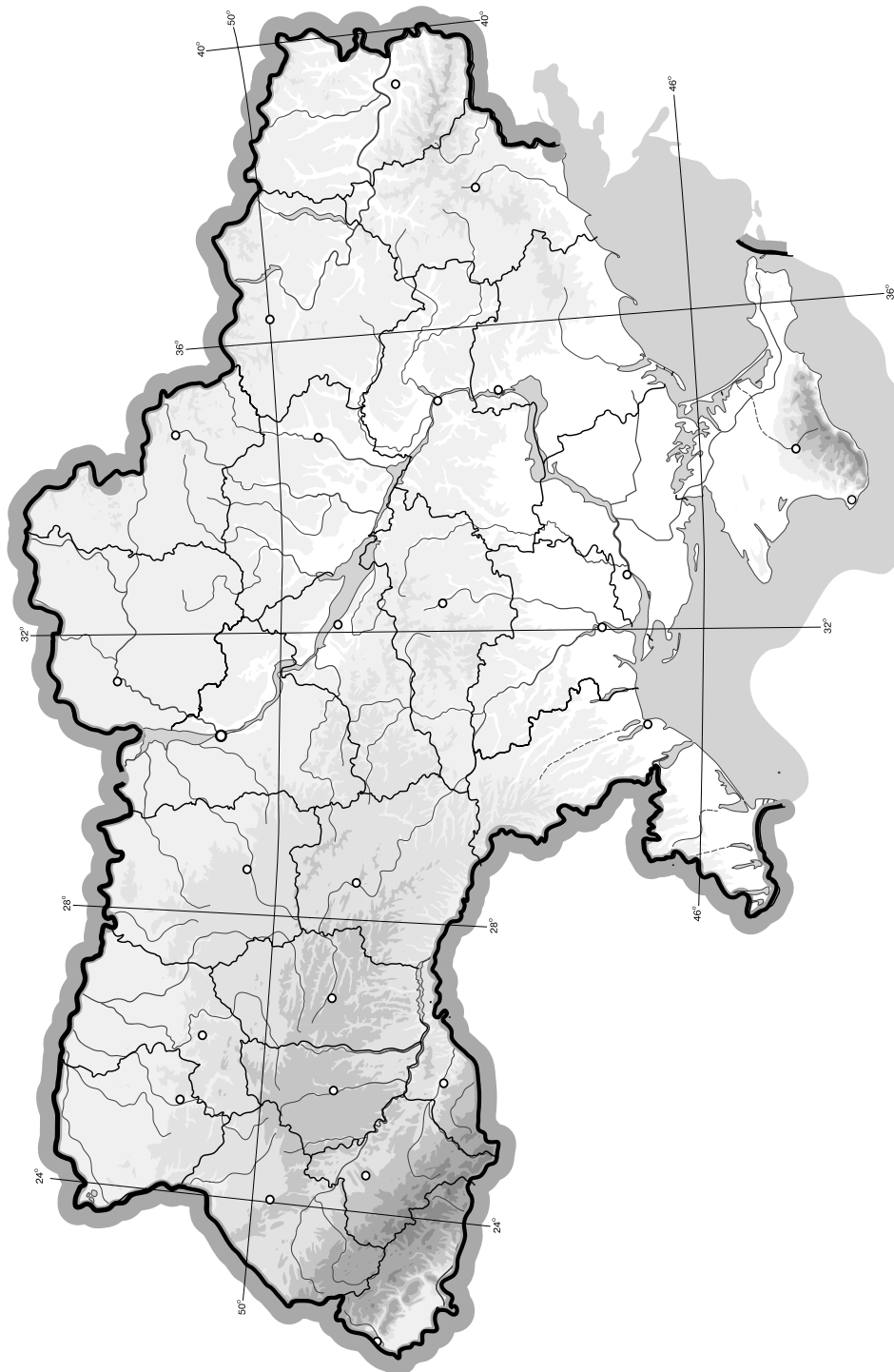
- 29.** Назвіть основні типи рельєфу України. Визначте закономірності їх поширення.
- 30.** Накресліть схему галузевої структури господарства України.
- 31*.** Поясніть принципи розміщення різних типів електростанцій (включаючи і нетрадиційні). Наведіть приклади.

[illegible]

V. Завдання на контурній карті

Завдання 32 має картографічний характер і передбачає нанесення на карту інформації відповідно до завдання та розробку легенди карти (записи на карті й легенда подаються тим самим кольором ручки, яким виконується все тестове завдання).

- 32.** Позначте на контурній карті регіони вирощування основних технічних культур в Україні (льон-довгунець, цукровий буряк, соняшник, хміль, лаванда).



I. Завдання з вибором однієї правильної відповіді

1. Оберіть правильне твердження щодо особливостей економіко-географічного положення України:

А держава межує з країнами ЄС на заході
Б територія держави не омивається морями Світового океану
В територія країни не компактна
Г протяжність території з півночі на південь становить 1316 км

А Б В Г
☐ ☐ ☐ ☐

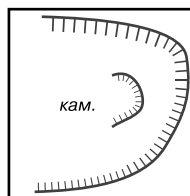
2. Вкажіть крайню південну точку України:

А м. Тарханкут **В** м. Сарич
Б м. Меганом **Г** м. Херсонес

А Б В Г
☐ ☐ ☐ ☐

3. Вкажіть, що позначають на топографічній карті таким умовним знаком:

А урвище
Б западина
В кар'єр
Г яр



А Б В Г
☐ ☐ ☐ ☐

4. Вкажіть ім'я засновника і першого президента Академії наук України:

А Павло Чубинський **В** Павло Тутковський
Б Степан Рудницький **Г** Володимир Вернадський

А Б В Г
☐ ☐ ☐ ☐

5. Визначте географічну довготу міста – обласного центру України, якщо різниця між його місцевим часом і місцевим часом Лондона становить 1 год 36 хв:

А 24° сх. д. **В** 30° сх. д.
Б 28°30' сх. д. **Г** 32°30' сх. д.

А Б В Г
☐ ☐ ☐ ☐

6. Визначте, яку площу займає Україна на карті півкуль, яка не спотворює площ і має масштаб 1 : 22 000 000:

А 6,24 см² **В** 12,47 см²
Б 25 см² **Г** 10,25 см²

А Б В Г
☐ ☐ ☐ ☐

7. Зазначте, чому в Кримських горах та Карпатах немає льодовиків:

А гори молоді
Б випадає мало опадів
В найвища точка гір лежить нижче висоти снігової лінії
Г теплий клімат

А Б В Г
☐ ☐ ☐ ☐

8. Вкажіть, якою цифрою на картосхемі позначено область з найменшою густотою населення:

А 1
Б 2
В 3
Г 4



А Б В Г
☐ ☐ ☐ ☐

9. Оберіть правильний варіант ланцюга «галузь – продукція – основний чинник розміщення підприємства»:

- А** харчова промисловість – виробництво цукру – споживач
- Б** хімічна промисловість – мінеральні добрива – вода
- В** машинобудування – автобуси – кваліфіковані кадри
- Г** лісова промисловість – виробництво меблів – наука

А Б В Г

--	--	--	--

10. Вкажіть, яка з національних меншин України проживає компактно в одній з адміністративних одиниць України вищого порядку:

- А** поляки
- Б** євреї
- В** кримські татари
- Г** білоруси

А Б В Г

--	--	--	--

11. З'ясуйте, з якою тектонічною структурою пов'язані Деренюське й Липовенківське родовища нікелевих руд:

- А** Дніпровсько-Донецька западина
- Б** Передкарпатський крайовий прогин
- В** Причорноморська западина
- Г** Український щит

А Б В Г

--	--	--	--

12. Зазначте країну, на території якої розташований витік р. Дніпро:

- А** Росія
- Б** Білорусь
- В** Литва
- Г** Україна

А Б В Г

--	--	--	--

13. Виберіть найбільший центр тракторобудування в Україні:

- А** Запоріжжя
- Б** Маріуполь
- В** Кіровоград
- Г** Харків

А Б В Г

--	--	--	--

14. Вкажіть область України, яка є найодноріднішою за національним складом населення:

- А** Черкаська
- Б** Одеська
- В** Чернівецька
- Г** Закарпатська

А Б В Г

--	--	--	--

15. Оберіть країни, з якими Україна не має спільних кордонів на сході:

- А** Росія, Туреччина
- Б** Росія, Молдова
- В** Польща, Росія
- Г** Польща, Угорщина

А Б В Г

--	--	--	--

16. Зазначте, яка з національних меншин України переважно проживає на півночі держави:

- А** білоруси
- Б** угорці
- В** вірмени
- Г** росіяни

А Б В Г

--	--	--	--

17. Вкажіть, якою є загальна протяжність кордонів України:

- А** 2835 км
- Б** 983 км
- В** 6500 км
- Г** 1316 км

А Б В Г

--	--	--	--



18. Вкажіть, якому історико-географічному краю відповідає більша частина території Хмельницької та Вінницької областей:

- А Волинь
Б Поділля
В Бессарабія
Г Полісся

А	Б	В	Г
<input type="checkbox"/>	<input type="checkbox"/>	<input type="checkbox"/>	<input type="checkbox"/>

19. Вкажіть агропромислову зону чи район, де галузями спеціалізації сільського господарства є м'ясо-молочне скотарство, виноградарство, баштанництво:

- А Лісостепова
Б Поліська
В Степова
Г Карпатський

А	Б	В	Г
<input type="checkbox"/>	<input type="checkbox"/>	<input type="checkbox"/>	<input type="checkbox"/>

20. Виберіть тип земель, які мають найбільшу частку в структурі земельного фонду України:

- А землі лісового і водного фондів
Б землі житлової та промислової забудови
В землі сільськогосподарського призначення
Г землі природно-заповідного фонду та рекреаційного призначення

А	Б	В	Г
<input type="checkbox"/>	<input type="checkbox"/>	<input type="checkbox"/>	<input type="checkbox"/>

II. Завдання на визначення відповідності





У завданнях 21–25 до кожного із завдань, позначених цифрою, доберіть правильну відповідь, позначену буквою. Потім відповідність цифр і букв перенесіть у бланк відповідей.

21. Визначте відповідність між географічними назвами крайніх точок України та їхніми координатами:

- 1 мис Сарич
2 с. Грем'яч Чернігівської обл.
3 с. Соломонове (околиці м. Чоп) Закарпатської обл.
4 с. Червона Зірка Луганської обл.
А $48^{\circ}26'$ пн. ш., $22^{\circ}08'$ сх. д.
Б $49^{\circ}15'$ пн. ш., $40^{\circ}05'$ сх. д.
В $44^{\circ}23'$ пн. ш., $33^{\circ}44'$ сх. д.
Г $48^{\circ}23'$ пн. ш., $31^{\circ}11'$ сх. д.
Д $52^{\circ}22'$ пн. ш., $33^{\circ}11'$ сх. д.

	А	Б	В	Г	Д
1	<input type="checkbox"/>	<input type="checkbox"/>	<input type="checkbox"/>	<input type="checkbox"/>	<input type="checkbox"/>
2	<input type="checkbox"/>	<input type="checkbox"/>	<input type="checkbox"/>	<input type="checkbox"/>	<input type="checkbox"/>
3	<input type="checkbox"/>	<input type="checkbox"/>	<input type="checkbox"/>	<input type="checkbox"/>	<input type="checkbox"/>
4	<input type="checkbox"/>	<input type="checkbox"/>	<input type="checkbox"/>	<input type="checkbox"/>	<input type="checkbox"/>

22. Визначте відповідність між умовними позначеннями корисних копалин і тектонічними структурами України, у межах яких вони залягають:

- 1  (Стебницьке)
2  (Нововолинське)
3  (Нікопольське)
4  (Берегівське)

- А Закарпатська міжгірна западина
Б Український щит
В Галицько-Волинська западина
Г Передкарпатський крайовий прогин
Д Скіфська плита

	А	Б	В	Г	Д
1	<input type="checkbox"/>	<input type="checkbox"/>	<input type="checkbox"/>	<input type="checkbox"/>	<input type="checkbox"/>
2	<input type="checkbox"/>	<input type="checkbox"/>	<input type="checkbox"/>	<input type="checkbox"/>	<input type="checkbox"/>
3	<input type="checkbox"/>	<input type="checkbox"/>	<input type="checkbox"/>	<input type="checkbox"/>	<input type="checkbox"/>
4	<input type="checkbox"/>	<input type="checkbox"/>	<input type="checkbox"/>	<input type="checkbox"/>	<input type="checkbox"/>

23. Вкажіть відповідність між продукцією промисловості будівельних матеріалів і центрами, де її виробляють:

- 1 цемент
 - 2 будівельне скло
 - 3 фарфор і фаянс
 - 4 природне каміння
- А Славута
Б Кам'янець-Подільський
В Мелітополь
Г Житомир
Д Львів

	А	Б	В	Г	Д
1	<input type="checkbox"/>	<input type="checkbox"/>	<input type="checkbox"/>	<input type="checkbox"/>	<input type="checkbox"/>
2	<input type="checkbox"/>	<input type="checkbox"/>	<input type="checkbox"/>	<input type="checkbox"/>	<input type="checkbox"/>
3	<input type="checkbox"/>	<input type="checkbox"/>	<input type="checkbox"/>	<input type="checkbox"/>	<input type="checkbox"/>
4	<input type="checkbox"/>	<input type="checkbox"/>	<input type="checkbox"/>	<input type="checkbox"/>	<input type="checkbox"/>

24. Вкажіть відповідність між височинами України та назвами їхніх найвищих точок:

- 1 Волинська
 - 2 Хотинська
 - 3 Подільська
 - 4 Донецька
- А г. Берда
Б г. Бельмак-Могила
В Мізоцький кряж
Г г. Могила-Мечетна
Д г. Камула

	А	Б	В	Г	Д
1	<input type="checkbox"/>	<input type="checkbox"/>	<input type="checkbox"/>	<input type="checkbox"/>	<input type="checkbox"/>
2	<input type="checkbox"/>	<input type="checkbox"/>	<input type="checkbox"/>	<input type="checkbox"/>	<input type="checkbox"/>
3	<input type="checkbox"/>	<input type="checkbox"/>	<input type="checkbox"/>	<input type="checkbox"/>	<input type="checkbox"/>
4	<input type="checkbox"/>	<input type="checkbox"/>	<input type="checkbox"/>	<input type="checkbox"/>	<input type="checkbox"/>

25. Вкажіть відповідність між промисловими центрами Донецького економічного району та продукцією підприємств, які в них зосереджені:

- 1 Горлівка
 - 2 Маріуполь
 - 3 Костянтинівка
 - 4 Луганськ
- А тепловози
Б літаки
В вугільні комбайни
Г виробництво цинку
Д залізничні цистерни

	А	Б	В	Г	Д
1	<input type="checkbox"/>	<input type="checkbox"/>	<input type="checkbox"/>	<input type="checkbox"/>	<input type="checkbox"/>
2	<input type="checkbox"/>	<input type="checkbox"/>	<input type="checkbox"/>	<input type="checkbox"/>	<input type="checkbox"/>
3	<input type="checkbox"/>	<input type="checkbox"/>	<input type="checkbox"/>	<input type="checkbox"/>	<input type="checkbox"/>
4	<input type="checkbox"/>	<input type="checkbox"/>	<input type="checkbox"/>	<input type="checkbox"/>	<input type="checkbox"/>

III. Завдання з вибором трьох правильних відповідей

Завдання 26–28 містять по сім варіантів відповідей, з яких лише ТРИ правильні. Потрібно вибрати три правильні, на вашу думку, відповіді і позначити їх у бланку відповідей.

26. Серед міст України виберіть три, у яких розвинута чорна металургія:

- | | |
|--------------|------------|
| 1 Київ | 5 Вінниця |
| 2 Запоріжжя | 6 Макіївка |
| 3 Кривий Ріг | 7 Луцьк |
| 4 Одеса | |

<input type="checkbox"/>	<input type="checkbox"/>	<input type="checkbox"/>
--------------------------	--------------------------	--------------------------

27. Серед міст України виберіть три, у яких розвинуте курортне господарство:

- | | |
|-----------|------------|
| 1 Ялта | 5 Миргород |
| 2 Одеса | 6 Харків |
| 3 Ніжин | 7 Луцьк |
| 4 Житомир | |

<input type="checkbox"/>	<input type="checkbox"/>	<input type="checkbox"/>
--------------------------	--------------------------	--------------------------



1	Говерла	5	Берда
2	Ай-Петрі	6	Роман-Кош
3	Бельмак-Могила	7	Петрос
4	Піп-Іван		

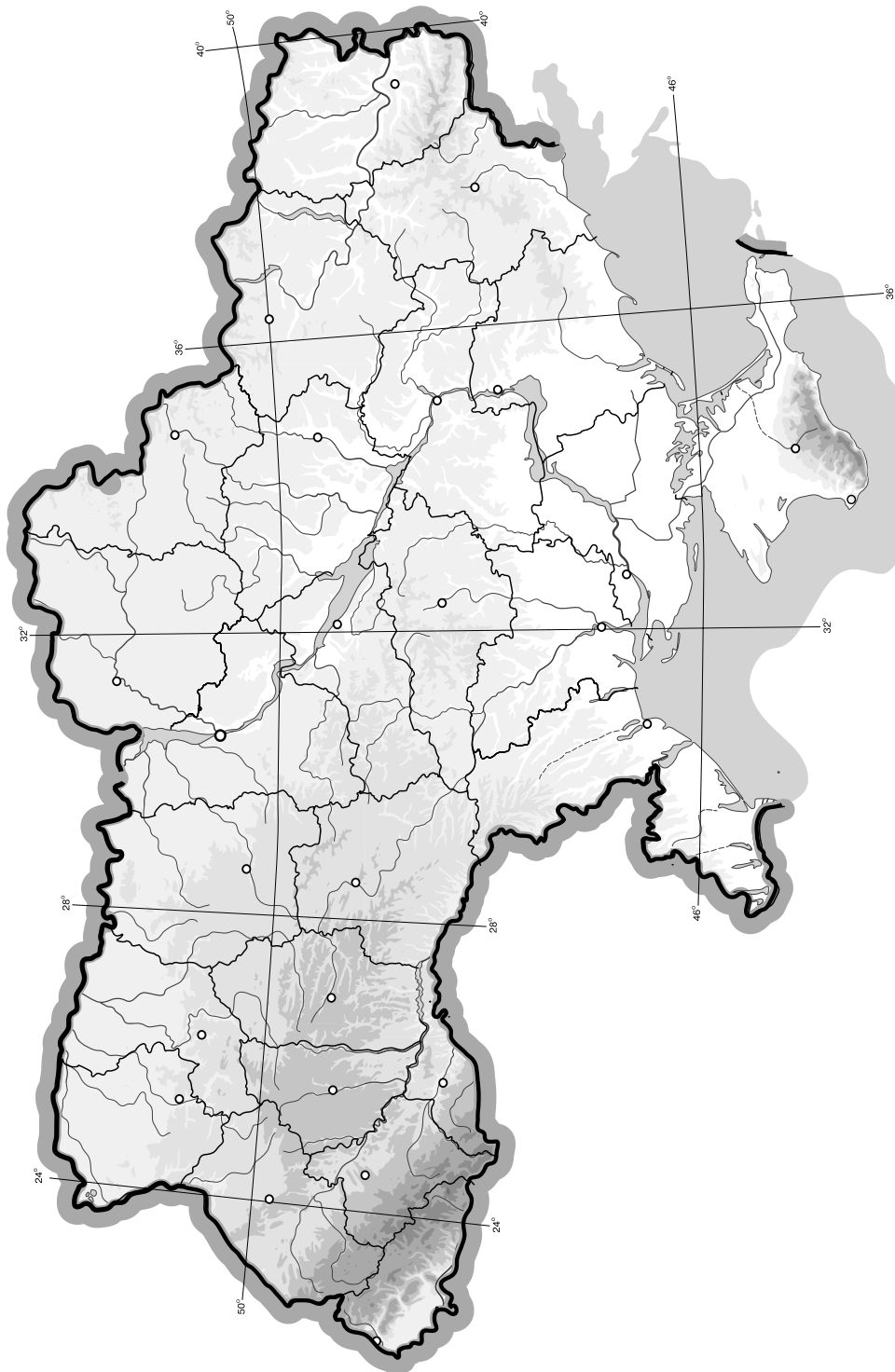
29. Дайте характеристику озер України за походженням їхніх улоговин. Наведіть приклади.
30. На конкретних прикладах поясніть чинники розміщення підприємств харчової промисловості України.
- 31*. Поясніть, які галузі господарства України є найперспективнішими з огляду на глобалізаційні процеси.

[illegible]

V. Завдання на контурній карті

Завдання 32 має картографічний характер і передбачає нанесення на карту інформації відповідно до завдання та розробку легенди карти (записи на карті й легенда подаються тим самим кольором ручки, яким виконується все тестове завдання).

- 32.** Позначте на контурній карті головні центри чорної та кольорової металургії України (по 5 прикладів).



I. Завдання з вибором однієї правильної відповіді

1. Вкажіть, яка протяжність території України між її західною і східною крайніми точками:

A 893 км
B 1316 км

B 8900 км
Г 1230 км

A	Б	В	Г
<input type="checkbox"/>	<input type="checkbox"/>	<input type="checkbox"/>	<input type="checkbox"/>

2. Вкажіть, у якій частині Європи розташована Україна:

A Північна Європа
B Центральньо-Східна Європа

B Західна Європа
Г Південна Європа

A	Б	В	Г
<input type="checkbox"/>	<input type="checkbox"/>	<input type="checkbox"/>	<input type="checkbox"/>

3. Визначте географічні координати міста, якщо Сонце в ньому сходить на 10 год 24 хв пізніше, ніж на 180° д., а висота Полярної зірки над горизонтом становить близько 50° :

A 50° пн. ш., 24° сх. д.
B 40° пн. ш., 156° сх. д.

B 24° пн. ш., 50° сх. д.
Г 50° пн. ш., 36° сх. д.

A	Б	В	Г
<input type="checkbox"/>	<input type="checkbox"/>	<input type="checkbox"/>	<input type="checkbox"/>

4. Зазначте, яка історико-географічна область розташована в крайній північно-східній частині України:

A Буковина
B Таврія

B Буджак
Г Слобожанщина

A	Б	В	Г
<input type="checkbox"/>	<input type="checkbox"/>	<input type="checkbox"/>	<input type="checkbox"/>

5. Визначте відстань між двома населеними пунктами на фізичній карті України (масштаб 1 : 1 000 000), якщо на топографічній карті (масштаб 1 : 200 000) ця відстань становить 12 см:

A 0,6 см
B 24 см

B 60 см
Г 2,4 см

A	Б	В	Г
<input type="checkbox"/>	<input type="checkbox"/>	<input type="checkbox"/>	<input type="checkbox"/>

6. Вкажіть, яке місто є адміністративним центром Закарпатської області:

A Новоград-Волинський
B Мукачеве
В Ужгород
Г Луцьк

A	Б	В	Г
<input type="checkbox"/>	<input type="checkbox"/>	<input type="checkbox"/>	<input type="checkbox"/>

7. Оберіть групу деревних порід, характерних для зони широколистяних лісів:

A дуб, бук, граб, ясен
B сосна, смерека, акація, береза
В ялина, граб, сосна, кедр
Г ялина, модрина, сосна, кедр

A	Б	В	Г
<input type="checkbox"/>	<input type="checkbox"/>	<input type="checkbox"/>	<input type="checkbox"/>

8. Визначте за фрагментом карти назву проекції, у якій зображена земна поверхня:

A азимутальна
B конічна
В поліконічна
Г циліндрична



A	Б	В	Г
<input type="checkbox"/>	<input type="checkbox"/>	<input type="checkbox"/>	<input type="checkbox"/>

9. Визначте регіон України, в якому випадає найбільша кількість опадів:

- А Закарпаття
- Б Карпати
- В Південний берег Криму
- Г Одещина

А	Б	В	Г
<input type="checkbox"/>	<input type="checkbox"/>	<input type="checkbox"/>	<input type="checkbox"/>

10. Оберіть умовний знак, яким на карті позначають Бориславське, Долинське, Старосамбірське родовища:

- А 
- Б 
- В 
- Г 

А	Б	В	Г
<input type="checkbox"/>	<input type="checkbox"/>	<input type="checkbox"/>	<input type="checkbox"/>

11. Зазначте, які ґрунти характерні для півдня Лісостепу і півночі Степу в Україні:

- А підзолисті
- Б сірі лісові
- В чорноземи
- Г каштанові

А	Б	В	Г
<input type="checkbox"/>	<input type="checkbox"/>	<input type="checkbox"/>	<input type="checkbox"/>

12. Позначте, яка затока не належить до Чорного моря:

- А Каркінітська
- Б Одеська
- В Феодосійська
- Г Обитічна

А	Б	В	Г
<input type="checkbox"/>	<input type="checkbox"/>	<input type="checkbox"/>	<input type="checkbox"/>

13. Зазначте, який тип клімату переважає на Південному березі Криму:

- А помірний
- Б морський
- В субтропічний
- Г арктичний

А	Б	В	Г
<input type="checkbox"/>	<input type="checkbox"/>	<input type="checkbox"/>	<input type="checkbox"/>

14. Зазначте область України, у якій розміщено найбільше підприємств чорної металургії:

- А Донецька
- Б Херсонська
- В Київська
- Г Харківська

А	Б	В	Г
<input type="checkbox"/>	<input type="checkbox"/>	<input type="checkbox"/>	<input type="checkbox"/>

15. Зазначте область України, у якій розміщено Бурштинську ДРЕС:

- А Вінницька
- Б Івано-Франківська
- В Київська
- Г Харківська

А	Б	В	Г
<input type="checkbox"/>	<input type="checkbox"/>	<input type="checkbox"/>	<input type="checkbox"/>

16. Вкажіть найвищу точку Кримських гір:

- А г. Роман-Кош
- Б г. Чатирдаг
- В г. Ай-Петрі
- Г г. Карадаг

А	Б	В	Г
<input type="checkbox"/>	<input type="checkbox"/>	<input type="checkbox"/>	<input type="checkbox"/>

17. Вкажіть, яке місто-порт розташоване на узбережжі Азовського моря:

- А Ялта
- Б Одеса
- В Маріуполь
- Г Феодосія

А	Б	В	Г
<input type="checkbox"/>	<input type="checkbox"/>	<input type="checkbox"/>	<input type="checkbox"/>





18. Визначте, який з позначених буквами на картосхемі районів України за агрокліматичними умовами найбільш придатний для вирощування соняшнику:



А	Б	В	Г

19. Позначте міста України, у яких діє метрополітен:

- А Дніпропетровськ, Харків
Б Одеса, Херсон
В Львів, Тернопіль
Г Донецьк, Сімферополь

А	Б	В	Г

20. Оберіть варіант, у якому правильно вказано поєднання економічного району з його спеціалізацією:

- А Центральний – чорна металургія
Б Придніпровський – машинобудування
В Донецький – видобуток нафти і газу
Г Подільський – хімічна промисловість

А	Б	В	Г

II. Завдання на визначення відповідності

У завданнях 21–25 до кожного із завдань, позначених цифрою, доберіть правильну відповідь, позначену буквою. Потім відповідність цифр і букв перенесіть у бланк відповідей.

21. Визначте відповідність між природними об'єктами та областями України, на території яких вони розташовані:

- 1 Обитічна коса
2 коса Бирючий Острів
3 г. Могила-Мечетна
4 г. Берда
А Миколаївська
Б Запорізька
В Херсонська
Г Луганська
Д Чернівецька

	А	Б	В	Г	Д
1					
2					
3					
4					

22. Визначте відповідність між геологічними структурами і корисними копалинами:

- 1 Український кристалічний щит
2 Дніпровсько-Донецька западина
3 Причорноморська западина
4 Передкарпатський прогин
А природний газ, каолін, вапняк
Б буре вугілля, уранові руди, титанові руди
В графіт, ртутні руди, апатити
Г нафта, газ, кам'яна сіль
Д нафта, газ, калійна сіль

	А	Б	В	Г	Д
1					
2					
3					
4					

23. Зазначте відповідність між атомними електростанціями (АЕС) і буквами на картосхемі:



- 1 Запорізька
2 Рівненська
3 Хмельницька
4 Південноукраїнська

	А	Б	В	Г	Д
1	<input type="checkbox"/>	<input type="checkbox"/>	<input type="checkbox"/>	<input type="checkbox"/>	<input type="checkbox"/>
2	<input type="checkbox"/>	<input type="checkbox"/>	<input type="checkbox"/>	<input type="checkbox"/>	<input type="checkbox"/>
3	<input type="checkbox"/>	<input type="checkbox"/>	<input type="checkbox"/>	<input type="checkbox"/>	<input type="checkbox"/>
4	<input type="checkbox"/>	<input type="checkbox"/>	<input type="checkbox"/>	<input type="checkbox"/>	<input type="checkbox"/>

24. Визначте відповідність між видами транспорту та їхніми найважливішими вузлами:

- 1 морський
2 трубопровідний
3 залізничний
4 повітряний
- А Бориспіль
Б Ужгород
В Ясинувата
Г Кіровоград
Д Одеса

	А	Б	В	Г	Д
1	<input type="checkbox"/>	<input type="checkbox"/>	<input type="checkbox"/>	<input type="checkbox"/>	<input type="checkbox"/>
2	<input type="checkbox"/>	<input type="checkbox"/>	<input type="checkbox"/>	<input type="checkbox"/>	<input type="checkbox"/>
3	<input type="checkbox"/>	<input type="checkbox"/>	<input type="checkbox"/>	<input type="checkbox"/>	<input type="checkbox"/>
4	<input type="checkbox"/>	<input type="checkbox"/>	<input type="checkbox"/>	<input type="checkbox"/>	<input type="checkbox"/>

25. Визначте відповідність між сільськогосподарськими культурами та областями, де їх вирощують:

- 1 баштанні
2 кукурудза
3 хміль
4 цукрові буряки
- А Закарпатська
Б Житомирська
В Черкаська
Г Херсонська
Д Луганська

	А	Б	В	Г	Д
1	<input type="checkbox"/>	<input type="checkbox"/>	<input type="checkbox"/>	<input type="checkbox"/>	<input type="checkbox"/>
2	<input type="checkbox"/>	<input type="checkbox"/>	<input type="checkbox"/>	<input type="checkbox"/>	<input type="checkbox"/>
3	<input type="checkbox"/>	<input type="checkbox"/>	<input type="checkbox"/>	<input type="checkbox"/>	<input type="checkbox"/>
4	<input type="checkbox"/>	<input type="checkbox"/>	<input type="checkbox"/>	<input type="checkbox"/>	<input type="checkbox"/>

III. Завдання з вибором трьох правильних відповідей

Завдання 26–28 містять по сім варіантів відповідей, з яких лише ТРИ правильні. Потрібно вибрати три правильні, на вашу думку, відповіді і позначити їх у бланку відповідей.

26. Виберіть трьох відомих українських географів:

- 1 С. Рудницький
2 М. Баранський
3 В. Кубійович
4 О. Діброва
- 5 М. Ломоносов
6 В. Максаковський
7 Ю. Саушкін

<input type="checkbox"/>	<input type="checkbox"/>	<input type="checkbox"/>
--------------------------	--------------------------	--------------------------

27. Виберіть три найбільші за площею озера України:

- 1 Бребенескул
2 Ялпуг
3 Світязь
4 Липовецьке
- 5 Синевир
6 Кагул
7 Кугурлуй

<input type="checkbox"/>	<input type="checkbox"/>	<input type="checkbox"/>
--------------------------	--------------------------	--------------------------

28. Виберіть три найбільш поширені природні зони України:

- 1 степ
2 тайга
3 мішані ліси
4 лісостеп
- 5 пустелі
6 тундра
7 савана

<input type="checkbox"/>	<input type="checkbox"/>	<input type="checkbox"/>
--------------------------	--------------------------	--------------------------



IV. Завдання відкритого типу

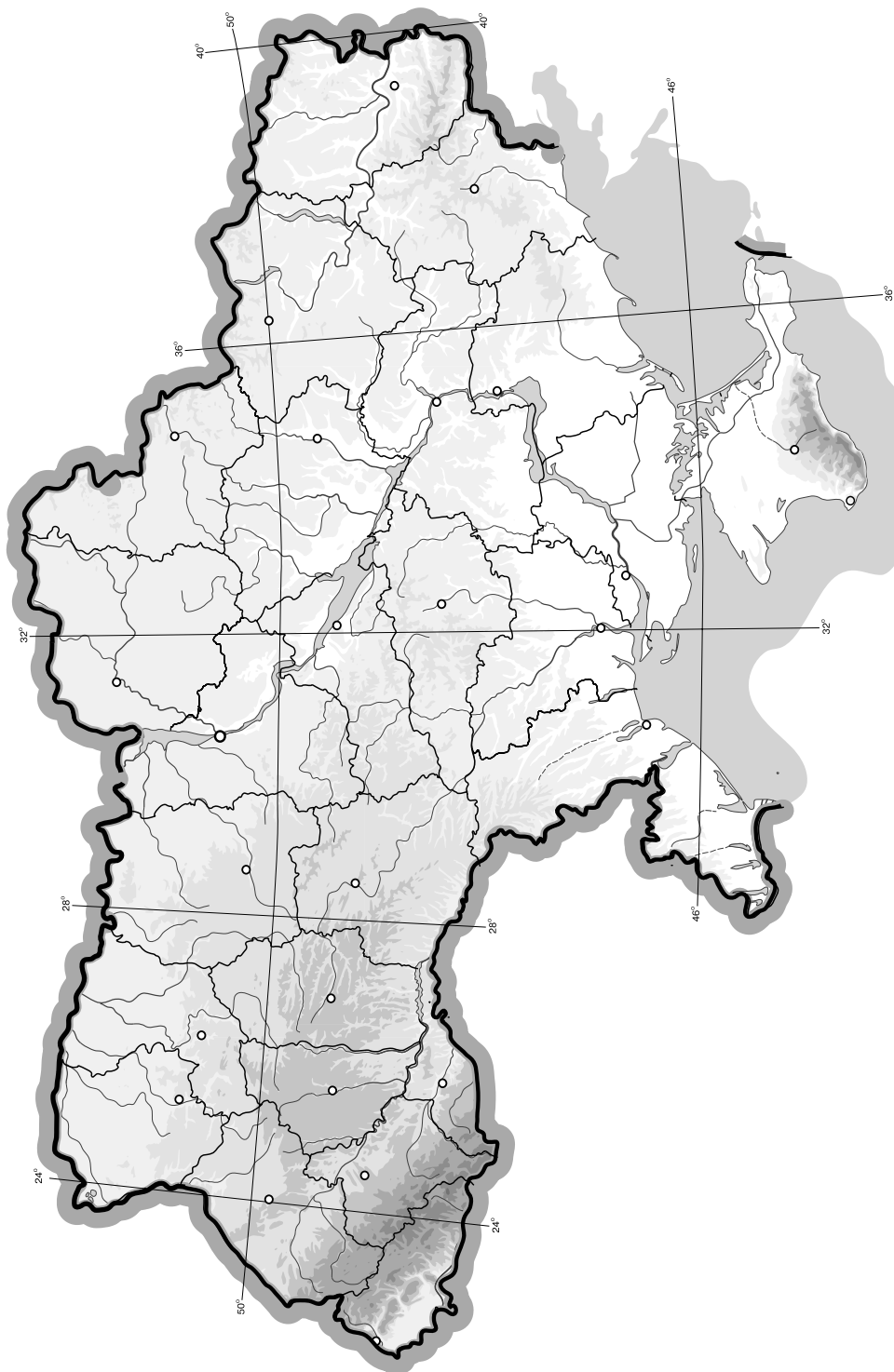
29. Розкажіть про види альтернативних джерел енергії. Які перспективи їх вико-

-
- This image shows a full page of white paper with horizontal blue or grey ruling lines. The lines are evenly spaced and run across the width of the page, providing a template for handwriting practice or general writing. There are no margins, text, or other markings on the page.

V. Завдання на контурній карті

Завдання 32 має картографічний характер і передбачає нанесення на карту інформації відповідно до завдання та розробку легенди карти (записи на карті й легенда подаються тим самим кольором ручки, яким виконується все тестове завдання).

- 32.** Позначте на контурній карті межі поширення основних типів ґрунтів на території України.



I. Завдання з вибором однієї правильної відповіді

1. Вкажіть межі другого годинного поясу без урахування проходження державних кордонів:

А $22^{\circ}30'$ сх. д. і $37^{\circ}30'$ сх. д.

Б 15° сх. д. і 30° сх. д.

В $7^{\circ}30'$ сх. д. і $22^{\circ}30'$ сх. д.

Г 22° сх. д. і 40° сх. д.

А	Б	В	Г
<input type="checkbox"/>	<input type="checkbox"/>	<input type="checkbox"/>	<input type="checkbox"/>

2. Визначте числовий масштаб карти, якщо іменований – в 1 см 200 м:

А 1 : 200

В 1 : 200 000

Б 1 : 20 000

Г 1 : 2000

А	Б	В	Г
<input type="checkbox"/>	<input type="checkbox"/>	<input type="checkbox"/>	<input type="checkbox"/>

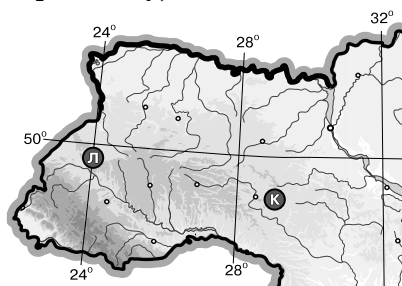
3. Визначте місцевий час у пункті Л, якщо в пункті К за місцевим часом у цей момент 11 год 04 хв (див. картосхему):

А 10 год 44 хв

Б 11 год 24 хв

В 10 год 59 хв

Г 11 год 09 хв



А	Б	В	Г
<input type="checkbox"/>	<input type="checkbox"/>	<input type="checkbox"/>	<input type="checkbox"/>

4. Визначте, що є головним чинником сучасного утворення ярів у межах України:

А вулканізм і землетруси

Б робота вітру

В робота текучих вод

Г робота льодовика

А	Б	В	Г
<input type="checkbox"/>	<input type="checkbox"/>	<input type="checkbox"/>	<input type="checkbox"/>

5. Вкажіть гідрологічне явище, що характерне для річок Карпат і не залежить від сезону:

А межень

Б паводок

В приплив

Г повінь

А	Б	В	Г
<input type="checkbox"/>	<input type="checkbox"/>	<input type="checkbox"/>	<input type="checkbox"/>

6. Зазначте, який чинник сприяє розвитку «парникового ефекту»:

А збільшення кількості вуглекислого газу в атмосфері

Б зменшення товщини озонового шару в стратосфері

В збільшення кількості азоту в атмосфері

Г зменшення кількості кисню в атмосфері

А	Б	В	Г
<input type="checkbox"/>	<input type="checkbox"/>	<input type="checkbox"/>	<input type="checkbox"/>

7. Вкажіть найпоширеніший у зоні Лісостепу тип ґрунтів:

А бурі лісові

Б чорноземи

В дерново-підзолисті

Г каштанові

А	Б	В	Г
<input type="checkbox"/>	<input type="checkbox"/>	<input type="checkbox"/>	<input type="checkbox"/>

8. Зазначте, який тип рослинності поширений у Степовому Криму:

А типчаково-ковилова

Б лучно-стєпова

В лучно-болотна

Г чагарникова

А	Б	В	Г
<input type="checkbox"/>	<input type="checkbox"/>	<input type="checkbox"/>	<input type="checkbox"/>

9. Вкажіть, у межах якої платформи розміщений Український кристалічний щит:

- А Західноєвропейська
- Б Східноєвропейська
- В Сибірська
- Г Скіфська

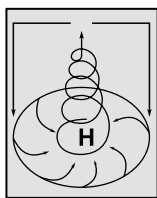
А	Б	В	Г
<input type="checkbox"/>	<input type="checkbox"/>	<input type="checkbox"/>	<input type="checkbox"/>

10. Оберіть неправильне твердження щодо використання одного з метеорологічних приладів:

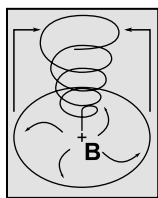
- А термометром вимірюють температуру повітря
- Б барометром вимірюють випаровуваність
- В флюгером визначають напрямок і силу вітру
- Г гігрометром вимірюють вологість повітря

А	Б	В	Г
<input type="checkbox"/>	<input type="checkbox"/>	<input type="checkbox"/>	<input type="checkbox"/>

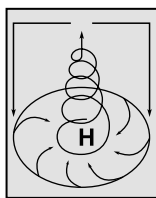
11. Розгляньте схеми й визначте, яка з них відображає процес, що формує в Україні взимку мінливу вітряну погоду з відлигами й опадами:



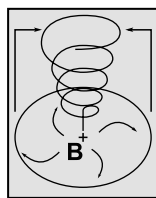
А



Б



В



Г

А	Б	В	Г
<input type="checkbox"/>	<input type="checkbox"/>	<input type="checkbox"/>	<input type="checkbox"/>

12. Вкажіть, до басейну якої річки належать притоки Тетерів, Рось, Псел, Ворскла:

- А Дністер
- Б Дунай
- В Дон
- Г Дніпро

А	Б	В	Г
<input type="checkbox"/>	<input type="checkbox"/>	<input type="checkbox"/>	<input type="checkbox"/>

13. Вкажіть форму організації виробництва, що відповідає визначенню «поєднання на одному підприємстві всіх стадій переробки певної сировини, що забезпечує мало- або безвідходність виробництва»:

- А кооперування
- Б спеціалізація
- В концентрація
- Г комбінування

А	Б	В	Г
<input type="checkbox"/>	<input type="checkbox"/>	<input type="checkbox"/>	<input type="checkbox"/>

14. Оберіть правильний варіант ланцюга «галузь – підприємство – основний чинник розміщення»:

- А рибна промисловість – холодильники – споживач
- Б сироварна промисловість – молокозавод – кваліфіковані кадри
- В лісова промисловість – меблева фабрика – трудові ресурси
- Г хіміко-фармацевтична промисловість – фармацевтична фірма – паливо

А	Б	В	Г
<input type="checkbox"/>	<input type="checkbox"/>	<input type="checkbox"/>	<input type="checkbox"/>

15. Визначте відстань у кілометрах між точками з географічними координатами 52° пн. ш. і 34° сх. д. та 45° пн. ш. і 34° сх. д.:

- А 893 км
- Б 625 км
- В 777 км
- Г 717 км

А	Б	В	Г
<input type="checkbox"/>	<input type="checkbox"/>	<input type="checkbox"/>	<input type="checkbox"/>

16. Зазначте, яка технічна культура є головною на Поліссі:

- А кукурудза
- Б соняшник
- В льон-довгунець
- Г цукровий буряк

А	Б	В	Г
<input type="checkbox"/>	<input type="checkbox"/>	<input type="checkbox"/>	<input type="checkbox"/>

17. Вкажіть, які з виробництв є галузями спеціалізації Донецького та Придніпровського економічних районів:

- А металообробка, лісозаготівля
- Б тонкорунне вівчарство, виноградарство
- В важке машинобудування, металургія
- Г нафтопереробка, льонарство

А	Б	В	Г
<input type="checkbox"/>	<input type="checkbox"/>	<input type="checkbox"/>	<input type="checkbox"/>

18. Визначте, які транспортні шляхи було прокладено між Львовом і Перемишлем у 1861 р. та між Одесою і Балтою в 1865 р.:

- А судноплавні канали
- Б залізничні колії
- В трубопроводи
- Г шосейні дороги

А	Б	В	Г
<input type="checkbox"/>	<input type="checkbox"/>	<input type="checkbox"/>	<input type="checkbox"/>

19. Оберіть неправильне твердження щодо зовнішньоекономічних зв'язків України:

- А у структурі імпорту найбільша частка припадає на нафту і природний газ
- Б основним видом міжнародних послуг України є транспортні послуги для країн СНД
- В найбільше товарів експортується до Росії, Німеччини, Туреччини, Китаю
- Г природно-історичний чинник відіграє значну роль у наданні туристичних послуг

А	Б	В	Г
<input type="checkbox"/>	<input type="checkbox"/>	<input type="checkbox"/>	<input type="checkbox"/>

20. Оберіть групу міст, які є в Україні великими залізничними вузлами:

- А Київ, Жмеринка, Ковель
- Б Мелітополь, Харків, Бердянськ
- В Маріуполь, Миколаїв, Бориспіль
- Г Гайворон, Феодосія, Донецьк

А	Б	В	Г
<input type="checkbox"/>	<input type="checkbox"/>	<input type="checkbox"/>	<input type="checkbox"/>

II. Завдання на визначення відповідності

У завданнях 21–25 до кожного із завдань, позначених цифрою, доберіть правильну відповідь, позначену буквою. Потім відповідність цифр і букв перенесіть у бланк відповідей.

21. Визначте відповідність між географічними об'єктами та областями України, на території яких вони розташовані:

- 1 Ладизинське водосховище
- 2 Обитічна коса
- 3 о. Сасик
- 4 о. Ялпуг

- А Запорізька
- Б Закарпатська
- В АР Крим
- Г Вінницька
- Д Одеська

	А	Б	В	Г	Д
1	<input type="checkbox"/>	<input type="checkbox"/>	<input type="checkbox"/>	<input type="checkbox"/>	<input type="checkbox"/>
2	<input type="checkbox"/>	<input type="checkbox"/>	<input type="checkbox"/>	<input type="checkbox"/>	<input type="checkbox"/>
3	<input type="checkbox"/>	<input type="checkbox"/>	<input type="checkbox"/>	<input type="checkbox"/>	<input type="checkbox"/>
4	<input type="checkbox"/>	<input type="checkbox"/>	<input type="checkbox"/>	<input type="checkbox"/>	<input type="checkbox"/>

22. Визначте відповідність між умовними знаками та родовищами корисних копалин України:

- 1 ▲
- 2 □
- 3 ○
- 4 ▲

- А Іршанське
- Б Артемівське
- В Керченське
- Г Бориславське
- Д Микитівське

	А	Б	В	Г	Д
1	<input type="checkbox"/>	<input type="checkbox"/>	<input type="checkbox"/>	<input type="checkbox"/>	<input type="checkbox"/>
2	<input type="checkbox"/>	<input type="checkbox"/>	<input type="checkbox"/>	<input type="checkbox"/>	<input type="checkbox"/>
3	<input type="checkbox"/>	<input type="checkbox"/>	<input type="checkbox"/>	<input type="checkbox"/>	<input type="checkbox"/>
4	<input type="checkbox"/>	<input type="checkbox"/>	<input type="checkbox"/>	<input type="checkbox"/>	<input type="checkbox"/>

23. Вкажіть відповідність між рекреаційними зонами та регіоном їхнього розташування:

- 1 п-ів Тарханкут
 - 2 м. Моршин
 - 3 Шацькі озера
 - 4 м. Вилкове
- А АР Крим
Б Одеська обл.
В Чернігівська обл.
Г Волинська обл.
Д Львівська обл.

	А	Б	В	Г	Д
1	<input type="checkbox"/>	<input type="checkbox"/>	<input type="checkbox"/>	<input type="checkbox"/>	<input type="checkbox"/>
2	<input type="checkbox"/>	<input type="checkbox"/>	<input type="checkbox"/>	<input type="checkbox"/>	<input type="checkbox"/>
3	<input type="checkbox"/>	<input type="checkbox"/>	<input type="checkbox"/>	<input type="checkbox"/>	<input type="checkbox"/>
4	<input type="checkbox"/>	<input type="checkbox"/>	<input type="checkbox"/>	<input type="checkbox"/>	<input type="checkbox"/>

24. Визначте відповідність між етнічними землями, що перебувають за межами державної території України, і країнами, до складу яких вони нині належать:

- 1 Берестейщина
 - 2 Кубань
 - 3 Холмщина
 - 4 Мармароцина
- А Польща
Б Росія
В Білорусь
Г Угорщина
Д Румунія

	А	Б	В	Г	Д
1	<input type="checkbox"/>	<input type="checkbox"/>	<input type="checkbox"/>	<input type="checkbox"/>	<input type="checkbox"/>
2	<input type="checkbox"/>	<input type="checkbox"/>	<input type="checkbox"/>	<input type="checkbox"/>	<input type="checkbox"/>
3	<input type="checkbox"/>	<input type="checkbox"/>	<input type="checkbox"/>	<input type="checkbox"/>	<input type="checkbox"/>
4	<input type="checkbox"/>	<input type="checkbox"/>	<input type="checkbox"/>	<input type="checkbox"/>	<input type="checkbox"/>

25. Визначте відповідність між родовищами нафти в Україні, що позначені буквами на картосхемі, та їхніми назвами:

- 1 Нинівське
- 2 Прилуцьке
- 3 Бориславське
- 4 Долинське



	А	Б	В	Г	Д
1	<input type="checkbox"/>	<input type="checkbox"/>	<input type="checkbox"/>	<input type="checkbox"/>	<input type="checkbox"/>
2	<input type="checkbox"/>	<input type="checkbox"/>	<input type="checkbox"/>	<input type="checkbox"/>	<input type="checkbox"/>
3	<input type="checkbox"/>	<input type="checkbox"/>	<input type="checkbox"/>	<input type="checkbox"/>	<input type="checkbox"/>
4	<input type="checkbox"/>	<input type="checkbox"/>	<input type="checkbox"/>	<input type="checkbox"/>	<input type="checkbox"/>

III. Завдання з вибором трьох правильних відповідей

Завдання 26–28 містять по сім варіантів відповідей, з яких лише ТРИ правильні. Потрібно вибрати три правильні, на вашу думку, відповіді і позначити їх у бланку відповідей.

26. Виберіть три залізорудні басейни України:

- 1 Ладижинський
- 2 Коростенський
- 3 Кременчуцький
- 4 Керченський
- 5 Криворізький
- 6 Львівський
- 7 Чернігівський

<input type="checkbox"/>	<input type="checkbox"/>	<input type="checkbox"/>
--------------------------	--------------------------	--------------------------

27. Виберіть назви трьох портів на Дунаї:

- 1 Ізмаїл
- 2 Одеса
- 3 Бердянськ
- 4 Кілія
- 5 Рені
- 6 Іллічівськ
- 7 Севастополь

<input type="checkbox"/>	<input type="checkbox"/>	<input type="checkbox"/>
--------------------------	--------------------------	--------------------------

- 1 Валдайська
- 2 Подільська
- 3 плато Сучава
- 4 Приазовська

5 Хотинська
6 Люблінська
7 Білоруська



Завдання 29–31 передбачають розгорнуту відповідь на поставлені запитання з відповідним записом у бланку відповідей.

30. Назвіть види водних ресурсів України. Наведіть приклади.

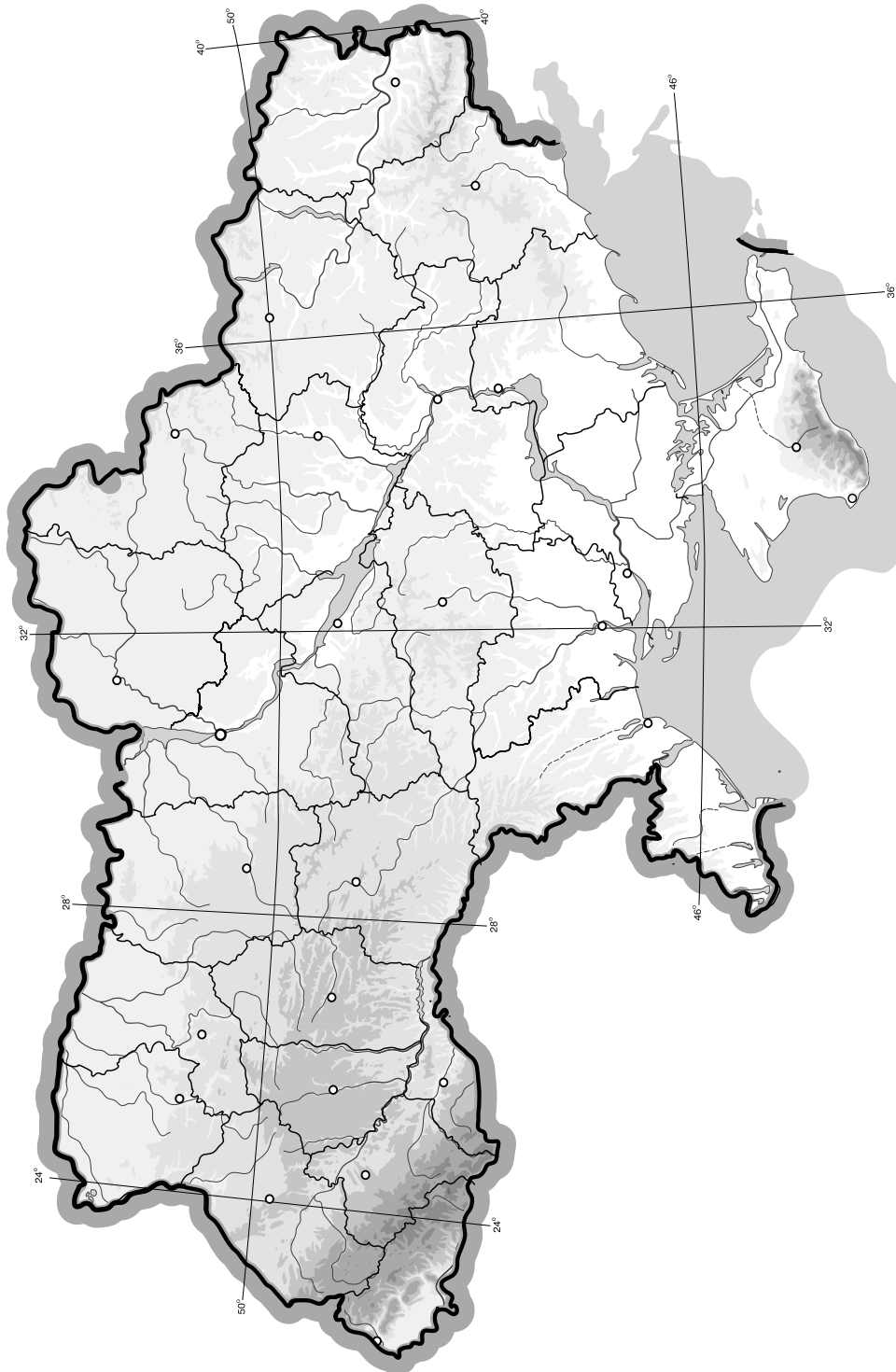
31*. Доведіть, що коефіцієнт зволоження – це показник, який враховує вплив усіх чинників кліматотворення.

This image shows a blank sheet of white paper with horizontal ruling lines. The lines are evenly spaced and run across the width of the page. There are no margins, text, or other markings on the paper.

V. Завдання на контурній карті

Завдання 32 має картографічний характер і передбачає нанесення на карту інформації відповідно до завдання та розробку легенди карти (записи на карті й легенда подаються тим самим кольором ручки, яким виконується все тестове завдання).

32. Нанесіть на контурну карту приблизні межі Українського щита й Дніпровсько-Донецької западини та основні форми рельєфу, що з ними пов'язані.



I. Завдання з вибором однієї правильної відповіді

- Оберіть твердження, що відповідає визначенню поняття «географія України»:

А наука про склад, геологічну будову та розташування території України
Б наука про природні умови та ресурси України
В наука про розвиток господарства України
Г наука про природу, розміщення населення і господарства України

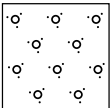
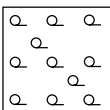

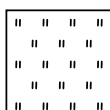
А Б В Г
- Визначте географічні координати населеного пункту, якщо Сонце в ньому сходить на 2 год 8 хв раніше, ніж на Гринвіцькому меридіані, а висота Полярної зірки над горизонтом становить близько 47° .

А 50° пн. ш., 30° сх. д.
Б 43° пн. ш., 32° сх. д.
В 47° пн. ш., 32° сх. д.
Г 32° пн. ш., 47° сх. д.

А Б В Г
- Вкажіть державу, з якою Україна має найкоротший суходільний кордон:

А Угорщина
Б Молдова
В Білорусь
Г Румунія

А Б В Г
- Позначте умовний знак, яким на топографічних картах зображують фруктовий сад:

А 
Б 
В 
Г 

А Б В Г
- Визначте, на якій приблизно висоті в горах з'явиться зона снігів та льодовиків, якщо біля підніжжя гори (висота 0 м) середня річна температура становить $+16^\circ\text{C}$:

А 2 км
Б 2,6 км
В 3 км
Г 3,6 км

А Б В Г
- Вкажіть, яке озеро України має найбільшу площу:

А Ялпуг
Б Світязь
В Синевир
Г Сасик

А Б В Г
- Зазначте, яка область в Україні має найпотужнішу цукрову промисловість:

А Київська
Б Вінницька
В Чернігівська
Г Кіровоградська

А Б В Г
- Визначте, якому історико-географічному регіону відповідає територія сучасних Львівської та Івано-Франківської областей:

А Волинь
Б Поділля
В Галичина
Г Слобожанщина

А Б В Г

9. Вкажіть повітряні маси, які найбільше впливають на формування клімату України:

- A** арктичні
- Б** тропічні
- В** помірні морські
- Г** субтропічні

A	Б	В	Г
<input type="checkbox"/>	<input type="checkbox"/>	<input type="checkbox"/>	<input type="checkbox"/>

10. Вкажіть максимальну глибину Чорного моря:

- A** 1256 м
- Б** 2200 м
- В** 2245 м
- Г** 1271 м

A	Б	В	Г
<input type="checkbox"/>	<input type="checkbox"/>	<input type="checkbox"/>	<input type="checkbox"/>

11. Вкажіть область, на території якої розташована крайня східна точка України:

- A** Харківська
- Б** Луганська
- В** Сумська
- Г** Донецька

A	Б	В	Г
<input type="checkbox"/>	<input type="checkbox"/>	<input type="checkbox"/>	<input type="checkbox"/>

12. Вкажіть область, на території якої розташована найвища точка рівнинної частини України:

- A** Львівська
- Б** Івано-Франківська
- В** Тернопільська
- Г** Чернівецька

A	Б	В	Г
<input type="checkbox"/>	<input type="checkbox"/>	<input type="checkbox"/>	<input type="checkbox"/>

13. Визначте, які корисні копалини пов'язані з Передкарпатським прогином:

- A** боксити
- Б** нафта й газ
- В** кам'яне вугілля
- Г** уранові руди

A	Б	В	Г
<input type="checkbox"/>	<input type="checkbox"/>	<input type="checkbox"/>	<input type="checkbox"/>

14. Вкажіть назву області з постійно низьким атмосферним тиском – баричним мінімумом, що значно впливає на клімат Західної Європи, і зокрема України:

- A** Азорський
- Б** Ісландський
- В** Сибірський
- Г** Алеутський

A	Б	В	Г
<input type="checkbox"/>	<input type="checkbox"/>	<input type="checkbox"/>	<input type="checkbox"/>

15. Зазначте, який тип клімату характерний для більшої частини України:

- A** різкоконтинентальний
- Б** помірно континентальний
- В** морський
- Г** середземноморський

A	Б	В	Г
<input type="checkbox"/>	<input type="checkbox"/>	<input type="checkbox"/>	<input type="checkbox"/>

16. Визначте, якою буде температура повітря в Кримських горах на висоті 1500 м, якщо на рівні моря вона становить 10 °C:

- A** 10 °C
- Б** 3 °C
- В** 1 °C
- Г** 12 °C

A	Б	В	Г
<input type="checkbox"/>	<input type="checkbox"/>	<input type="checkbox"/>	<input type="checkbox"/>

17. Вкажіть, яке місто є адміністративним центром АР Крим:

- A** Ялта
- Б** Сімферополь
- В** Севастополь
- Г** Керч

A	Б	В	Г
<input type="checkbox"/>	<input type="checkbox"/>	<input type="checkbox"/>	<input type="checkbox"/>



18. Зазначте, який морський порт є найпотужнішим в Україні:

- А** Одеса
Б Ізмаїл

- В** Бердянськ
Г Миколаїв

А	Б	В	Г

19. Оберіть помилкове щодо України твердження:

- А** АЕС розташовані в таких областях, як Рівненська, Миколаївська, Хмельницька
Б центрами виробництва літаків є Київ і Харків
В сільськогосподарською спеціалізацією Полісся є вирощування жита, гречки, картоплі, хмелю та льону
Г до складу Центрального економічного району України входять Вінницька, Черкаська та Кіровоградська області

А	Б	В	Г

20. Вкажіть галузь, яка належить до хімії органічного синтезу:

- А** виробництво калійної солі
Б виробництво соди
В виробництво мінеральних добрив
Г виробництво хімічних волокон

А	Б	В	Г

II. Завдання на визначення відповідності

У завданнях 21–25 до кожного із завдань, позначених цифрою, доберіть правильну відповідь, позначену буквою. Потім відповідність цифр і букв перенесіть у бланк відповідей.

21. Визначте відповідність між типами рельєфу та його формами:

- 1 еолові
2 денудаційні
3 водно-ерозійні
4 карстові

- А** останці, вали, уступи
Б складчасті споруди
В дюни, бархани
Г печери, лійки
Д балки, річкові долини, яри

	А	Б	В	Г	Д
1					
2					
3					
4					

22. Визначте відповідність між природними чинниками та кліматичними особливостями території України:

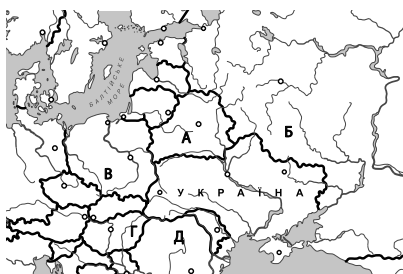
- 1 підстильна земна поверхня
2 географічна широта
3 близькість моря
4 гірські хребти Карпат, Кримських гір

- А** помірний клімат
Б впливає на радіаційний баланс, особливості мікроклімату
В посилюють висхідні рухи повітря
Г переважають низхідні рухи повітря
Д пом'якшує зиму

	А	Б	В	Г	Д
1					
2					
3					
4					

23. Визначте відповідність між країнами, що межують з Україною, і буквами на картосхемі:

- 1 Румунія
2 Угорщина
3 Білорусь
4 Польща



	А	Б	В	Г	Д
1					
2					
3					
4					

24. Вкажіть відповідність між економічними районами та адміністративними областями:

- 1 Карпатський
- 2 Придніпровський
- 3 Причорноморський
- 4 Столичний

- А Закарпатська
Б Житомирська
В Луганська
Г Одеська
Д Запорізька

	А	Б	В	Г	Д
1	<input type="checkbox"/>	<input type="checkbox"/>	<input type="checkbox"/>	<input type="checkbox"/>	<input type="checkbox"/>
2	<input type="checkbox"/>	<input type="checkbox"/>	<input type="checkbox"/>	<input type="checkbox"/>	<input type="checkbox"/>
3	<input type="checkbox"/>	<input type="checkbox"/>	<input type="checkbox"/>	<input type="checkbox"/>	<input type="checkbox"/>
4	<input type="checkbox"/>	<input type="checkbox"/>	<input type="checkbox"/>	<input type="checkbox"/>	<input type="checkbox"/>

25. Вкажіть відповідність між місцями залягання корисних копалин і їхніми видами:

- 1 Солотвино
- 2 Роздол
- 3 Калущ
- 4 Борислав

- А сірка
Б калійна сіль
В нафта
Г кам'яна сіль
Д торф

	А	Б	В	Г	Д
1	<input type="checkbox"/>	<input type="checkbox"/>	<input type="checkbox"/>	<input type="checkbox"/>	<input type="checkbox"/>
2	<input type="checkbox"/>	<input type="checkbox"/>	<input type="checkbox"/>	<input type="checkbox"/>	<input type="checkbox"/>
3	<input type="checkbox"/>	<input type="checkbox"/>	<input type="checkbox"/>	<input type="checkbox"/>	<input type="checkbox"/>
4	<input type="checkbox"/>	<input type="checkbox"/>	<input type="checkbox"/>	<input type="checkbox"/>	<input type="checkbox"/>

III. Завдання з вибором трьох правильних відповідей

Завдання 26–28 містять по сім варіантів відповідей, з яких лише ТРИ правильні. Потрібно вибрати три правильні, на вашу думку, відповіді і позначити їх у бланку відповідей.

26. Виберіть три найпоширеніші ґрунти в Україні:

- 1 червоноземи
- 2 чорноземи
- 3 тундрово-глеєві
- 4 сірі лісові
- 5 дерново-підзолисті
- 6 пустельні
- 7 коричневі

<input type="checkbox"/>	<input type="checkbox"/>	<input type="checkbox"/>
--------------------------	--------------------------	--------------------------

27. Виберіть три природні заповідники України:

- 1 «Горгани»
- 2 Слобожанський
- 3 Канівський
- 4 «Подільські Товтри»
- 5 «Синевир»
- 6 Ужанський
- 7 Луганський

<input type="checkbox"/>	<input type="checkbox"/>	<input type="checkbox"/>
--------------------------	--------------------------	--------------------------

28. Виберіть три АЕС в Україні:

- 1 Чигиринська
- 2 Київська
- 3 Хмельницька
- 4 Запорізька
- 5 Південноукраїнська
- 6 Калуська
- 7 Полтавська

<input type="checkbox"/>	<input type="checkbox"/>	<input type="checkbox"/>
--------------------------	--------------------------	--------------------------



IV. Завдання відкритого типу

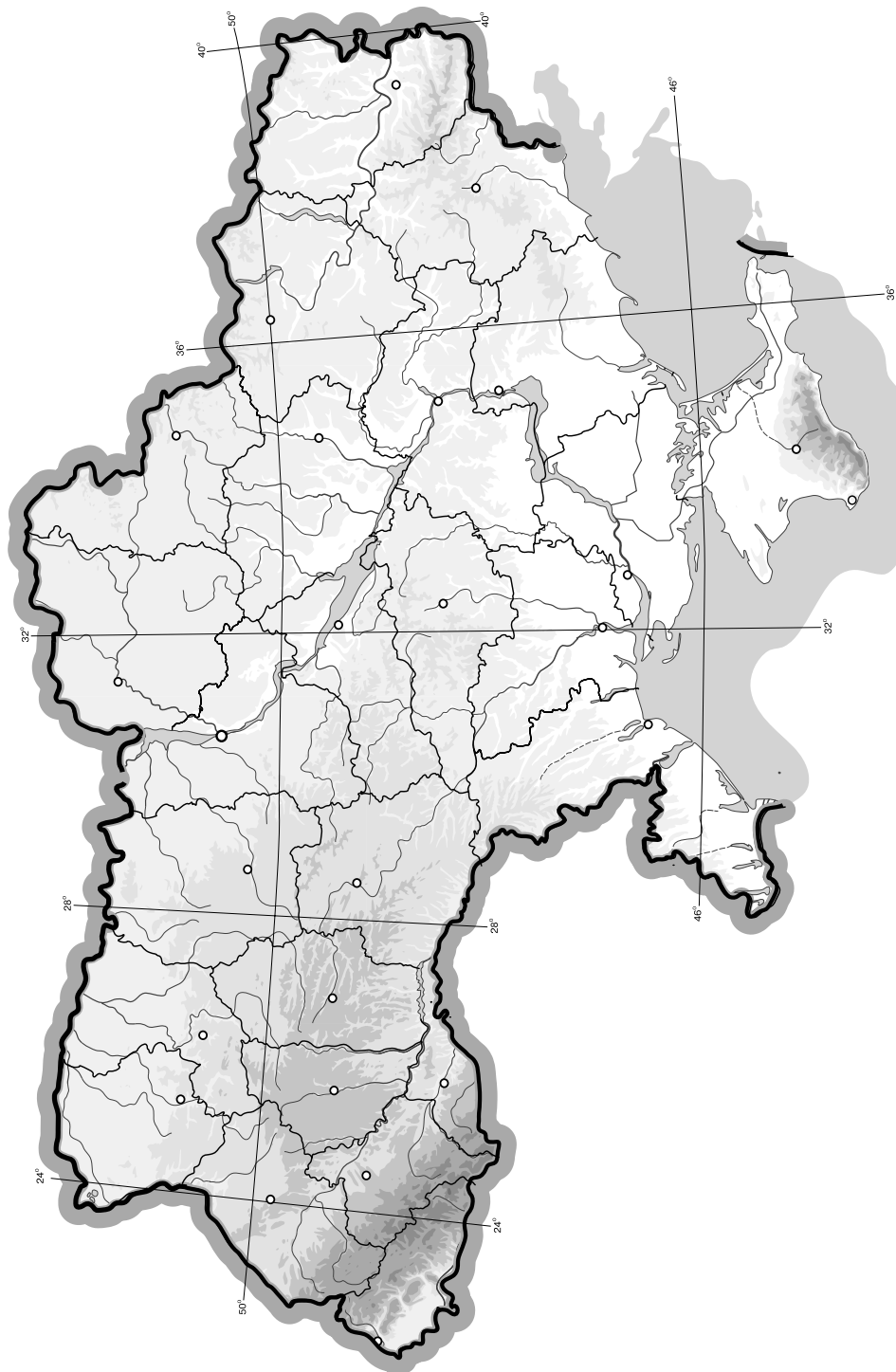
29. Що таке міграція населення? Охарактеризуйте види міграцій населення на те-

-
- This image shows a single sheet of white paper with horizontal ruling lines. The lines are evenly spaced and run across the width of the page. There are no margins, text, or other markings on the paper.

V. Завдання на контурній карті

Завдання 32 має картографічний характер і передбачає нанесення на карту інформації відповідно до завдання та розробку легенди карти (записи на карті й легенда подаються тим самим кольором ручки, яким виконується все тестове завдання).

- 32.** Нанесіть на контурну карту адміністративну одиницю (область чи АР Крим), на території якої ви проживаєте, а також інші адміністративні одиниці вищого порядку України та країни, з якими вона межує.



I. Завдання з вибором однієї правильної відповіді

1. Вкажіть, хто з вітчизняних учених заснував першу в Україні метеорологічну станцію і одним із перших обґрунтував необхідність створення державної метеорологічної мережі:

А Олександр Клосовський
 Б Василь Каразін
 В Микола Андрусов
 Г Павло Тутковський

А	Б	В	Г
<input type="checkbox"/>	<input type="checkbox"/>	<input type="checkbox"/>	<input type="checkbox"/>

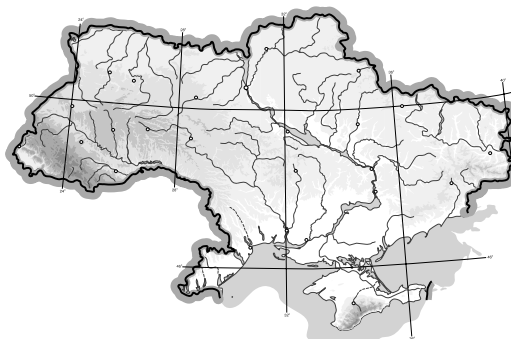
2. Визначте країну, з якою Україна має морський і суходільний кордони:

А Білорусія
 Б Болгарія
 В Румунія
 Г Угорщина

А	Б	В	Г
<input type="checkbox"/>	<input type="checkbox"/>	<input type="checkbox"/>	<input type="checkbox"/>

3. Зазначте, у якій проекції створено цю карту:

А конічна
 Б циліндрична
 В азимутальна пряма
 Г азимутальна поперечна



А	Б	В	Г
<input type="checkbox"/>	<input type="checkbox"/>	<input type="checkbox"/>	<input type="checkbox"/>

4. Вкажіть, які з названих корисних копалин належать до руд чорних металів:

А поліметалеві та мідні
 Б титанові та нікелеві
 В залізні та марганцеві
 Г боксити та ртутні

А	Б	В	Г
<input type="checkbox"/>	<input type="checkbox"/>	<input type="checkbox"/>	<input type="checkbox"/>

5. Виберіть групу умовних знаків, якими позначають паливні корисні копалини:

А ■, ▲, △ Б ▲, □, ◇ В ○, ▲, ■ Г ▲, △, □

А	Б	В	Г
<input type="checkbox"/>	<input type="checkbox"/>	<input type="checkbox"/>	<input type="checkbox"/>

6. Визначте, яку форму рельєфу позначено на карті штриховкою:

А Причорноморська низовина
 Б Придніпровська низовина
 В Середньоросійська височина
 Г Донецький кряж



А	Б	В	Г
<input type="checkbox"/>	<input type="checkbox"/>	<input type="checkbox"/>	<input type="checkbox"/>

7. Оберіть правильне твердження щодо клімату України:

А континентальність клімату зростає із заходу на схід
 Б континентальність клімату не змінюється зі зміною довготи
 В континентальність клімату зменшується із заходу на схід
 Г континентальність клімату зростає з півночі на південь

А	Б	В	Г
<input type="checkbox"/>	<input type="checkbox"/>	<input type="checkbox"/>	<input type="checkbox"/>

8. Вкажіть назву водного об'єкта, на який вказує стрілка на карті:

- А** Каховське водосховище
- Б** Дніпровське водосховище
- В** Кременчуцьке водосховище
- Г** Дністровське водосховище



А	Б	В	Г
<input type="checkbox"/>	<input type="checkbox"/>	<input type="checkbox"/>	<input type="checkbox"/>

9. Назвіть тип ґрунтів, що утворилися на лесових породах лісостепової і степової природних зон:

- А** чорноземи
- Б** каштанові
- В** лучні
- Г** коричневі

А	Б	В	Г
<input type="checkbox"/>	<input type="checkbox"/>	<input type="checkbox"/>	<input type="checkbox"/>

10. Виберіть з переліку об'єктів природно-заповідного фонду біосферний заповідник:

- А** Поліський
- Б** Кримський
- В** Чорноморський
- Г** Український степовий

А	Б	В	Г
<input type="checkbox"/>	<input type="checkbox"/>	<input type="checkbox"/>	<input type="checkbox"/>

11. Виберіть групу областей з найбільшим показником густоти населення:

- А** Донецька, Запорізька, Миколаївська
- Б** Харківська, Полтавська, Дніпропетровська
- В** Донецька, Дніпропетровська, Львівська
- Г** Одеська, Херсонська, Миколаївська

А	Б	В	Г
<input type="checkbox"/>	<input type="checkbox"/>	<input type="checkbox"/>	<input type="checkbox"/>

12. Зазначте, до якого функціонального типу населених пунктів належить м. Моршин:

- А** транспортний центр
- Б** промисловий центр
- В** рекреаційний центр
- Г** багатофункціональний центр

А	Б	В	Г
<input type="checkbox"/>	<input type="checkbox"/>	<input type="checkbox"/>	<input type="checkbox"/>

13. Виберіть правильне визначення терміна «спеціалізація»:

- А** зосередження основної діяльності підприємства на виробництві вузького кола продукції, товарів і послуг
- Б** об'єднання технологічно пов'язаних між собою підприємств, продукція одного з яких є сировиною для іншого
- В** встановлення виробничих зв'язків між підприємствами, кожне з яких спеціалізується на виробництві окремих частин одного виробу
- Г** група подібних за технологією виробництва і призначенням їхньої продукції підприємств, не пов'язаних між собою територіальним чинником

А	Б	В	Г
<input type="checkbox"/>	<input type="checkbox"/>	<input type="checkbox"/>	<input type="checkbox"/>

14. Вкажіть басейн корисних копалин, видобування яких має високу собівартість, пов'язану з глибоким заляганням шарів невеликої потужності:

- А** Донецький
- Б** Львівсько-Волинський
- В** Дніпровський
- Г** Криворізький

А	Б	В	Г
<input type="checkbox"/>	<input type="checkbox"/>	<input type="checkbox"/>	<input type="checkbox"/>



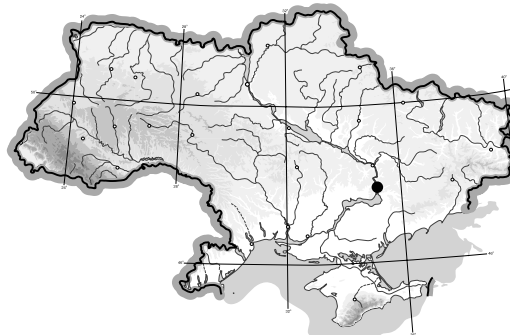
15. Вкажіть основний чинник, що визначає розміщення вітрових електростанцій:

- А природні умови
Б наявність паливної сировини і водних ресурсів
В наявність споживача і дефіцит паливних ресурсів
Г трудові ресурси і транспорт

А	Б	В	Г
<input type="checkbox"/>	<input type="checkbox"/>	<input type="checkbox"/>	<input type="checkbox"/>

16. Визначте, який центр чорної металургії позначено на карті пунсоном:

- А Запоріжжя
Б Маріуполь
В Донецьк
Г Луганськ



А	Б	В	Г
<input type="checkbox"/>	<input type="checkbox"/>	<input type="checkbox"/>	<input type="checkbox"/>

17. Зазначте, який основний чинник впливає на розміщення підприємств цукрової промисловості:

- А наявність трудових ресурсів
Б транспортний
В споживчий
Г сировинний

А	Б	В	Г
<input type="checkbox"/>	<input type="checkbox"/>	<input type="checkbox"/>	<input type="checkbox"/>

18. Вкажіть головний чинник, що визначає розміщення підприємств целюлозно-паперової промисловості:

- А споживчий
Б сировинний
В водний
Г транспортний

А	Б	В	Г
<input type="checkbox"/>	<input type="checkbox"/>	<input type="checkbox"/>	<input type="checkbox"/>

19. Виберіть із запропонованої продукції головну складову імпорту України (за 2012 р.):

- А зерно
Б чорні метали та вироби з них
В енергоресурси
Г продукція хімічної промисловості

А	Б	В	Г
<input type="checkbox"/>	<input type="checkbox"/>	<input type="checkbox"/>	<input type="checkbox"/>

20. Визначте економічний район, для якого характерним є переважання машинобудування і металообробки, хімічної, паливної, лісової та деревообробної, легкої, харчової промисловості та багатофункціонального сільського господарства:

- А Карпатський
Б Причорноморський
В Донецький
Г Північно-Східний

А	Б	В	Г
<input type="checkbox"/>	<input type="checkbox"/>	<input type="checkbox"/>	<input type="checkbox"/>

II. Завдання на визначення відповідності

У завданнях 21–25 до кожного із завдань, позначених цифрою, доберіть правильну відповідь, позначену буквою. Потім відповідність цифр і букв перенесіть у бланк відповідей.

21. Визначте відповідність між крайніми точками України та їхніми координатами:

- 1 с. Грем'яч, Чернігівська обл.
2 мис Сарич, АР Крим
3 с. Соломонове (околиці м. Чоп), Закарпатська обл.
4 с. Червона Зірка, Луганська обл.

- А $49^{\circ}15'$ пн. ш. і $40^{\circ}13'$ сх. д.
Б $48^{\circ}05'$ пн. ш. і $22^{\circ}08'$ сх. д.
В $44^{\circ}23'$ пн. ш. і $33^{\circ}44'$ сх. д.
Г $52^{\circ}22'$ пн. ш. і $33^{\circ}11'$ сх. д.
Д $48^{\circ}23'$ пн. ш. і $31^{\circ}11'$ сх. д.

	А	Б	В	Г	Д
1	<input type="checkbox"/>	<input type="checkbox"/>	<input type="checkbox"/>	<input type="checkbox"/>	<input type="checkbox"/>
2	<input type="checkbox"/>	<input type="checkbox"/>	<input type="checkbox"/>	<input type="checkbox"/>	<input type="checkbox"/>
3	<input type="checkbox"/>	<input type="checkbox"/>	<input type="checkbox"/>	<input type="checkbox"/>	<input type="checkbox"/>
4	<input type="checkbox"/>	<input type="checkbox"/>	<input type="checkbox"/>	<input type="checkbox"/>	<input type="checkbox"/>

22. Визначте відповідність між тектонічними структурами та корисними копалинами, що з ними пов'язані:

- 1 Український щит
- 2 Дніпровсько-Донецька западина
- 3 Причорноморська западина
- 4 Галицько-Волинська западина

- А** природний газ
Б калійна сіль
В лікувальні грязі
Г кам'яне вугілля
Д буре вугілля

	А	Б	В	Г	Д
1	<input type="checkbox"/>	<input type="checkbox"/>	<input type="checkbox"/>	<input type="checkbox"/>	<input type="checkbox"/>
2	<input type="checkbox"/>	<input type="checkbox"/>	<input type="checkbox"/>	<input type="checkbox"/>	<input type="checkbox"/>
3	<input type="checkbox"/>	<input type="checkbox"/>	<input type="checkbox"/>	<input type="checkbox"/>	<input type="checkbox"/>
4	<input type="checkbox"/>	<input type="checkbox"/>	<input type="checkbox"/>	<input type="checkbox"/>	<input type="checkbox"/>

23. Визначте відповідність між категоріями заповідного фонду та природоохоронними об'єктами:

- 1 Біосферний заповідник
- 2 Природний заповідник
- 3 Національний парк
- 4 Заказник

- А** «Меотида»
Б Дунайський
В Канівський
Г Молочний лиман
Д Шацький

	А	Б	В	Г	Д
1	<input type="checkbox"/>	<input type="checkbox"/>	<input type="checkbox"/>	<input type="checkbox"/>	<input type="checkbox"/>
2	<input type="checkbox"/>	<input type="checkbox"/>	<input type="checkbox"/>	<input type="checkbox"/>	<input type="checkbox"/>
3	<input type="checkbox"/>	<input type="checkbox"/>	<input type="checkbox"/>	<input type="checkbox"/>	<input type="checkbox"/>
4	<input type="checkbox"/>	<input type="checkbox"/>	<input type="checkbox"/>	<input type="checkbox"/>	<input type="checkbox"/>

24. Вкажіть відповідність між групами галузей господарства і галузями, які до них належать:

- 1 Важка промисловість
- 2 Харчова промисловість
- 3 Легка промисловість
- 4 Невиробнича сфера

- А** швейна
Б тваринництво
В рибна
Г машинобудування
Д охорона здоров'я

	А	Б	В	Г	Д
1	<input type="checkbox"/>	<input type="checkbox"/>	<input type="checkbox"/>	<input type="checkbox"/>	<input type="checkbox"/>
2	<input type="checkbox"/>	<input type="checkbox"/>	<input type="checkbox"/>	<input type="checkbox"/>	<input type="checkbox"/>
3	<input type="checkbox"/>	<input type="checkbox"/>	<input type="checkbox"/>	<input type="checkbox"/>	<input type="checkbox"/>
4	<input type="checkbox"/>	<input type="checkbox"/>	<input type="checkbox"/>	<input type="checkbox"/>	<input type="checkbox"/>

25. Знайдіть відповідність між цифрами на карті та назвами економічних районів:

- А** Північно-Східний
Б Карпатський
В Причорноморський
Г Столичний
Д Подільський



	А	Б	В	Г	Д
1	<input type="checkbox"/>	<input type="checkbox"/>	<input type="checkbox"/>	<input type="checkbox"/>	<input type="checkbox"/>
2	<input type="checkbox"/>	<input type="checkbox"/>	<input type="checkbox"/>	<input type="checkbox"/>	<input type="checkbox"/>
3	<input type="checkbox"/>	<input type="checkbox"/>	<input type="checkbox"/>	<input type="checkbox"/>	<input type="checkbox"/>
4	<input type="checkbox"/>	<input type="checkbox"/>	<input type="checkbox"/>	<input type="checkbox"/>	<input type="checkbox"/>

III. Завдання з вибором трьох правильних відповідей

Завдання 26–28 містять по сім варіантів відповідей, з яких лише ТРИ правильні. Потрібно вибрати три правильні, на вашу думку, відповіді і позначити їх у бланку відповідей.

26. Оберіть приклади географічних карт, що класифікуються за призначенням:

- 1 туристичні
- 2 карти світу і півкуль
- 3 середньомасштабні
- 4 навігаційні
- 5 загальногеографічні
- 6 навчальні
- 7 карти океанів

<input type="checkbox"/>	<input type="checkbox"/>	<input type="checkbox"/>
--------------------------	--------------------------	--------------------------



- 5** Таганрозька затока
6 Тендрівська коса
7 Феодосійська затока



- 5** сірникова фабрика
6 лісозаготівельне господарство
7 лісохімічне підприємство

Завдання 29–31 передбачають розгорнуту відповідь на поставлені запитання з відповідним записом у бланку відповідей.

30. Що таке діаспора та які особливості географії української діаспори у світі?

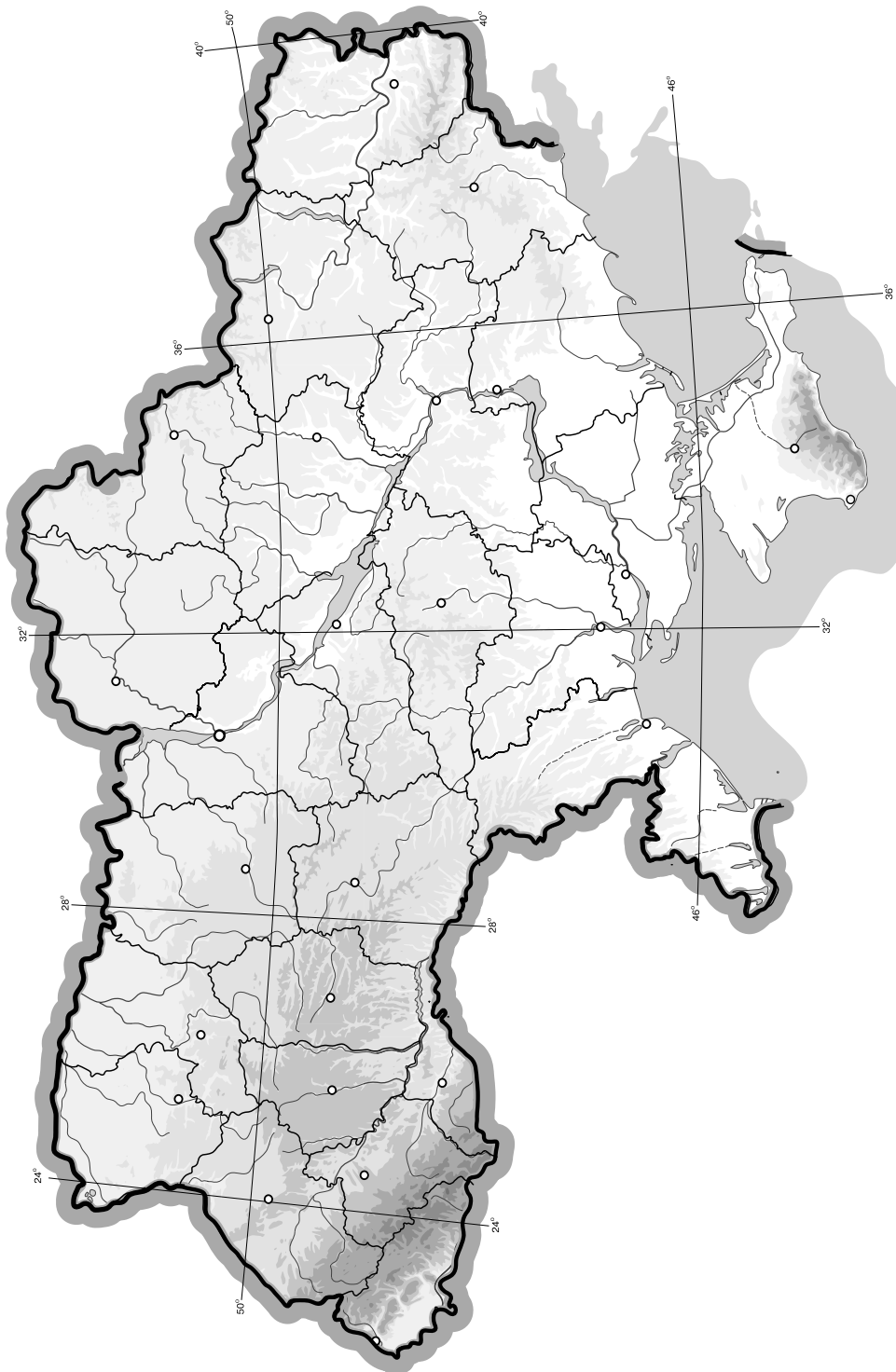
31*. Охарактеризуйте соціально-економічні чинники, що впливають на народжуваність в Україні.

This image shows a blank sheet of white paper with horizontal ruling lines. The lines are evenly spaced and extend across the width of the page. There are no margins, text, or other markings on the paper.

V. Завдання на контурній карті

Завдання 32 має картографічний характер і передбачає нанесення на карту інформації відповідно до завдання та розробку легенди карти (записи на карті й легенда подаються тим самим кольором ручки, яким виконується все тестове завдання).

- 32.** Позначте на контурній карті 10 родовищ паливних корисних копалин України (кам'яне вугілля, буре вугілля, нафта, природний газ, горючі сланці, торф).



I. Завдання з вибором однієї правильної відповіді

1. Визначте місцевий час у Харкові (50° пн. ш., 36° сх. д.), якщо в Києві (51° пн. ш., 31° сх. д.) 10 год:

А 9 год 40 хв
Б 11 год 10 хв

В 10 год 20 хв
Г 10 год 04 хв

А	Б	В	Г
<input type="checkbox"/>	<input type="checkbox"/>	<input type="checkbox"/>	<input type="checkbox"/>

2. Визначте, скільки часу знадобиться для переходу з одного села в інше, якщо відстань між цими селами на топографічній карті з масштабом 1 : 50 000 дорівнює 20 см, а швидкість ходьби – 5 км/год:

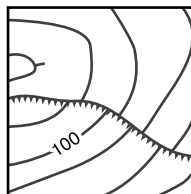
А 20 год
Б 10 год

В 4 год
Г 2 год

А	Б	В	Г
<input type="checkbox"/>	<input type="checkbox"/>	<input type="checkbox"/>	<input type="checkbox"/>

3. Виберіть із запропонованого переліку об'єкт, який відповідає даному умовному знаку:

А яр
Б урвище, крутобережжя
В трубопровід
Г гребля проїжджа



А	Б	В	Г
<input type="checkbox"/>	<input type="checkbox"/>	<input type="checkbox"/>	<input type="checkbox"/>

4. Виберіть групу умовних знаків, якими позначають рудні корисні копалини:

А ■, ▲, △
Б ▲, ■, ▣

В ○, ■, ▲
Г △, □, ⊗

А	Б	В	Г
<input type="checkbox"/>	<input type="checkbox"/>	<input type="checkbox"/>	<input type="checkbox"/>

5. Вкажіть назву тектонічної структури, що лежить в основі Придніпровської низовини:

А Дніпровсько-Донецька западина
Б Донецька складчаста споруда
В Український щит
Г Воронежський кристалічний масив

А	Б	В	Г
<input type="checkbox"/>	<input type="checkbox"/>	<input type="checkbox"/>	<input type="checkbox"/>

6. З'ясуйте, яку форму рельєфу позначено на карті:

А Подільська височина
Б Придніпровська низовина
В Придніпровська височина
Г Причорноморська низовина



А	Б	В	Г
<input type="checkbox"/>	<input type="checkbox"/>	<input type="checkbox"/>	<input type="checkbox"/>

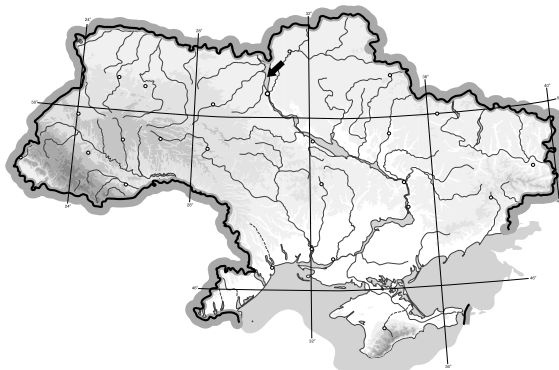
7. Виберіть рису, що характеризує річний хід пересічної температури повітря в Україні:

А великі зміни від місяця до місяця влітку і взимку та незначні коливання восени і навесні
Б відносно невеликі зміни від місяця до місяця влітку і взимку та різкі коливання восени і навесні
В відносно невеликі зміни від місяця до місяця влітку і взимку, а також восени і навесні
Г амплітуда температур відносно стала протягом року

А	Б	В	Г
<input type="checkbox"/>	<input type="checkbox"/>	<input type="checkbox"/>	<input type="checkbox"/>

8. Оберіть назву водного об'єкта, на який вказує стрілка на карті:

- А** Кременчуцьке водосховище
- Б** Дніпровське водосховище
- В** Каховське водосховище
- Г** Київське водосховище



А	Б	В	Г
<input type="checkbox"/>	<input type="checkbox"/>	<input type="checkbox"/>	<input type="checkbox"/>

9. Виберіть показник, який лежить в основі поділу території на фізико-географічні зони:

- А** особливості геоморфологічної будови території
- Б** співвідношення тепла та вологи
- В** ступінь континентальності клімату
- Г** спільність тектонічної будови та макрорельєфу

А	Б	В	Г
<input type="checkbox"/>	<input type="checkbox"/>	<input type="checkbox"/>	<input type="checkbox"/>

10. Зазначте, що є головним джерелом забруднення атмосферного повітря в містах:

- А** підприємства комунального господарства
- Б** підприємства важкої промисловості
- В** автомобільний транспорт
- Г** побутові відходи населення

А	Б	В	Г
<input type="checkbox"/>	<input type="checkbox"/>	<input type="checkbox"/>	<input type="checkbox"/>

11. Зазначте адміністративну область України, яка межує з найбільшою кількістю країн:

- А** Закарпатська
- Б** Одеська
- В** Чернігівська
- Г** Волинська

А	Б	В	Г
<input type="checkbox"/>	<input type="checkbox"/>	<input type="checkbox"/>	<input type="checkbox"/>

12. Визначте величину природного приросту населення, якщо рівень смертності становить 10 ‰, а народжуваності – 6 ‰:

- А** 4 ‰
- Б** –4 ‰
- В** 16 ‰
- Г** 8 ‰

А	Б	В	Г
<input type="checkbox"/>	<input type="checkbox"/>	<input type="checkbox"/>	<input type="checkbox"/>

13. Виберіть правильне визначення терміна «кооперування»:

- А** встановлення виробничих зв'язків між підприємствами, кожне з яких спеціалізується на виробництві окремих частин одного виробу
- Б** зосередження основної діяльності підприємства на виробництві вузького кола продукції, товарів і послуг
- В** об'єднання технологічно пов'язаних між собою підприємств, продукція одного з яких є сировиною для іншого
- Г** група подібних за технологією виробництва і призначенням їхньої продукції підприємств, не пов'язаних територіальним чинником

А	Б	В	Г
<input type="checkbox"/>	<input type="checkbox"/>	<input type="checkbox"/>	<input type="checkbox"/>

14. Виберіть галузь господарства, що належить до невиробничої сфери:

- А** транспорт
- Б** рослинництво
- В** зв'язок
- Г** управління

А	Б	В	Г
<input type="checkbox"/>	<input type="checkbox"/>	<input type="checkbox"/>	<input type="checkbox"/>

15. Назвіть тип електростанцій, які покривають пікові навантаження в споживанні електроенергії:

А сонячні
Б теплові

В гідроаккумулятивні
Г атомні

А	Б	В	Г
<input type="checkbox"/>	<input type="checkbox"/>	<input type="checkbox"/>	<input type="checkbox"/>

16. Вкажіть назву центру чорної металургії, який позначено на карті пунсоном:

А Алчевськ
Б Макіївка
В Дніпродзержинськ
Г Запоріжжя



А	Б	В	Г
<input type="checkbox"/>	<input type="checkbox"/>	<input type="checkbox"/>	<input type="checkbox"/>

17. Зазначте галузь машинобудування, яка орієнтується на споживача:

А сільськогосподарське
Б автомобілебудування

В верстатобудування
Г вагонобудування

А	Б	В	Г
<input type="checkbox"/>	<input type="checkbox"/>	<input type="checkbox"/>	<input type="checkbox"/>

18. Зазначте найбільший за потужністю центр виробництва калійних добрив в Україні:

А Калуш
Б Рівне

В Вінниця
Г Одеса

А	Б	В	Г
<input type="checkbox"/>	<input type="checkbox"/>	<input type="checkbox"/>	<input type="checkbox"/>

19. Зазначте, який регіон має найгустішу мережу залізничних шляхів:

А Донбас
Б Придніпров'я

В Правобережний Лісостеп
Г Західна Україна

А	Б	В	Г
<input type="checkbox"/>	<input type="checkbox"/>	<input type="checkbox"/>	<input type="checkbox"/>

20. Виберіть економічний район, для якого характерним є переважання сільського господарства і харчової промисловості, а також лісової, деревообробної, легкої промисловості та машинобудування:

А Столичний
Б Подільський

В Центральний
Г Північно-Західний

А	Б	В	Г
<input type="checkbox"/>	<input type="checkbox"/>	<input type="checkbox"/>	<input type="checkbox"/>

II. Завдання на визначення відповідності

У завданнях 21–25 до кожного із завдань, позначених цифрою, доберіть правильну відповідь, позначену буквою. Потім відповідність цифр і букв перенесіть у бланк відповідей.

21. Визначте відповідність між типами і формами рельєфу:

1 Техногенний
2 Морський аккумулятивний
3 Еоловий
4 Льодовиковий

А піщані коси
Б ками
В дюни
Г терикони
Д надзаплавні тераси

	А	Б	В	Г	Д
1	<input type="checkbox"/>	<input type="checkbox"/>	<input type="checkbox"/>	<input type="checkbox"/>	<input type="checkbox"/>
2	<input type="checkbox"/>	<input type="checkbox"/>	<input type="checkbox"/>	<input type="checkbox"/>	<input type="checkbox"/>
3	<input type="checkbox"/>	<input type="checkbox"/>	<input type="checkbox"/>	<input type="checkbox"/>	<input type="checkbox"/>
4	<input type="checkbox"/>	<input type="checkbox"/>	<input type="checkbox"/>	<input type="checkbox"/>	<input type="checkbox"/>

22. Зазначте відповідність у парах «притока – головна річка»:

- | | |
|----------------|------------------|
| 1 Ворскла | А Десна |
| 2 Прут | Б Вісла |
| 3 Західний Буг | В Дніпро |
| 4 Сейм | Г Дністер |
| | Д Дунай |

	А	Б	В	Г	Д
1	<input type="checkbox"/>	<input type="checkbox"/>	<input type="checkbox"/>	<input type="checkbox"/>	<input type="checkbox"/>
2	<input type="checkbox"/>	<input type="checkbox"/>	<input type="checkbox"/>	<input type="checkbox"/>	<input type="checkbox"/>
3	<input type="checkbox"/>	<input type="checkbox"/>	<input type="checkbox"/>	<input type="checkbox"/>	<input type="checkbox"/>
4	<input type="checkbox"/>	<input type="checkbox"/>	<input type="checkbox"/>	<input type="checkbox"/>	<input type="checkbox"/>

23. Визначте відповідність між датами і подіями, пов'язаними з історією формування державної території сучасної України:

- | | |
|-----------|---|
| 1 1939 р. | А Кримська область увійшла до складу Української РСР |
| 2 1940 р. | Б до складу Української РСР увійшли Північна Буковина та Південна Бессарабія |
| 3 1945 р. | В Україна увійшла до складу СРСР |
| 4 1954 р. | Г до складу Української РСР увійшла Закарпатська область |
| | Д Західна Україна увійшла до складу Української РСР |

	А	Б	В	Г	Д
1	<input type="checkbox"/>	<input type="checkbox"/>	<input type="checkbox"/>	<input type="checkbox"/>	<input type="checkbox"/>
2	<input type="checkbox"/>	<input type="checkbox"/>	<input type="checkbox"/>	<input type="checkbox"/>	<input type="checkbox"/>
3	<input type="checkbox"/>	<input type="checkbox"/>	<input type="checkbox"/>	<input type="checkbox"/>	<input type="checkbox"/>
4	<input type="checkbox"/>	<input type="checkbox"/>	<input type="checkbox"/>	<input type="checkbox"/>	<input type="checkbox"/>

24. Знайдіть відповідність між басейнами і регіонами зосередження паливних корисних копалин та центрами їх видобування:

- | | |
|------------------------|-----------------------|
| 1 Донбас | А Нововолинськ |
| 2 Львівсько-Волинський | Б Павлоград |
| 3 Дніпровський | В Олександрія |
| 4 Карпатський | Г Шебелинка |
| | Д Косів |

	А	Б	В	Г	Д
1	<input type="checkbox"/>	<input type="checkbox"/>	<input type="checkbox"/>	<input type="checkbox"/>	<input type="checkbox"/>
2	<input type="checkbox"/>	<input type="checkbox"/>	<input type="checkbox"/>	<input type="checkbox"/>	<input type="checkbox"/>
3	<input type="checkbox"/>	<input type="checkbox"/>	<input type="checkbox"/>	<input type="checkbox"/>	<input type="checkbox"/>
4	<input type="checkbox"/>	<input type="checkbox"/>	<input type="checkbox"/>	<input type="checkbox"/>	<input type="checkbox"/>

25. Знайдіть відповідність між цифрами на карті та назвами економічних районів:

- | |
|---------------------------|
| А Карпатський |
| Б Столичний |
| В Придніпровський |
| Г Північно-Східний |
| Д Центральний |



	А	Б	В	Г	Д
1	<input type="checkbox"/>	<input type="checkbox"/>	<input type="checkbox"/>	<input type="checkbox"/>	<input type="checkbox"/>
2	<input type="checkbox"/>	<input type="checkbox"/>	<input type="checkbox"/>	<input type="checkbox"/>	<input type="checkbox"/>
3	<input type="checkbox"/>	<input type="checkbox"/>	<input type="checkbox"/>	<input type="checkbox"/>	<input type="checkbox"/>
4	<input type="checkbox"/>	<input type="checkbox"/>	<input type="checkbox"/>	<input type="checkbox"/>	<input type="checkbox"/>

III. Завдання з вибором трьох правильних відповідей

Завдання 26–28 містять по сім варіантів відповідей, з яких лише ТРИ правильні. Потрібно вибрати три правильні, на вашу думку, відповіді і позначити їх у бланку відповідей.

26. Оберіть форми рельєфу, які сформувалися в межах Українського щита:

- | | |
|----------------------------|------------------------|
| 1 Подільська височина | 5 Приазовська височина |
| 2 Причорноморська низовина | 6 Волинська височина |
| 3 Придніпровська височина | 7 Донецький кряж |
| 4 Придніпровська низовина | |

<input type="checkbox"/>	<input type="checkbox"/>	<input type="checkbox"/>
--------------------------	--------------------------	--------------------------



- | | |
|------------------|-------------------|
| 1 цукрова | 5 кондитерська |
| 2 хлібопекарська | 6 макаронна |
| 3 олійно-жирова | 7 молокопереробна |
| 4 рибоконсервна | |



- 1 агрокліматичний
- 2 земельні ресурси
- 3 особливості землеволодіння
- 4 водний
- 5 трудові ресурси
- 6 аграрна політика держави
- 7 розвиток сільськогосподарського машинобудування



Завдання 29–31 передбачають розгорнуту відповідь на поставлені запитання з відповідним записом у бланку відповідей.

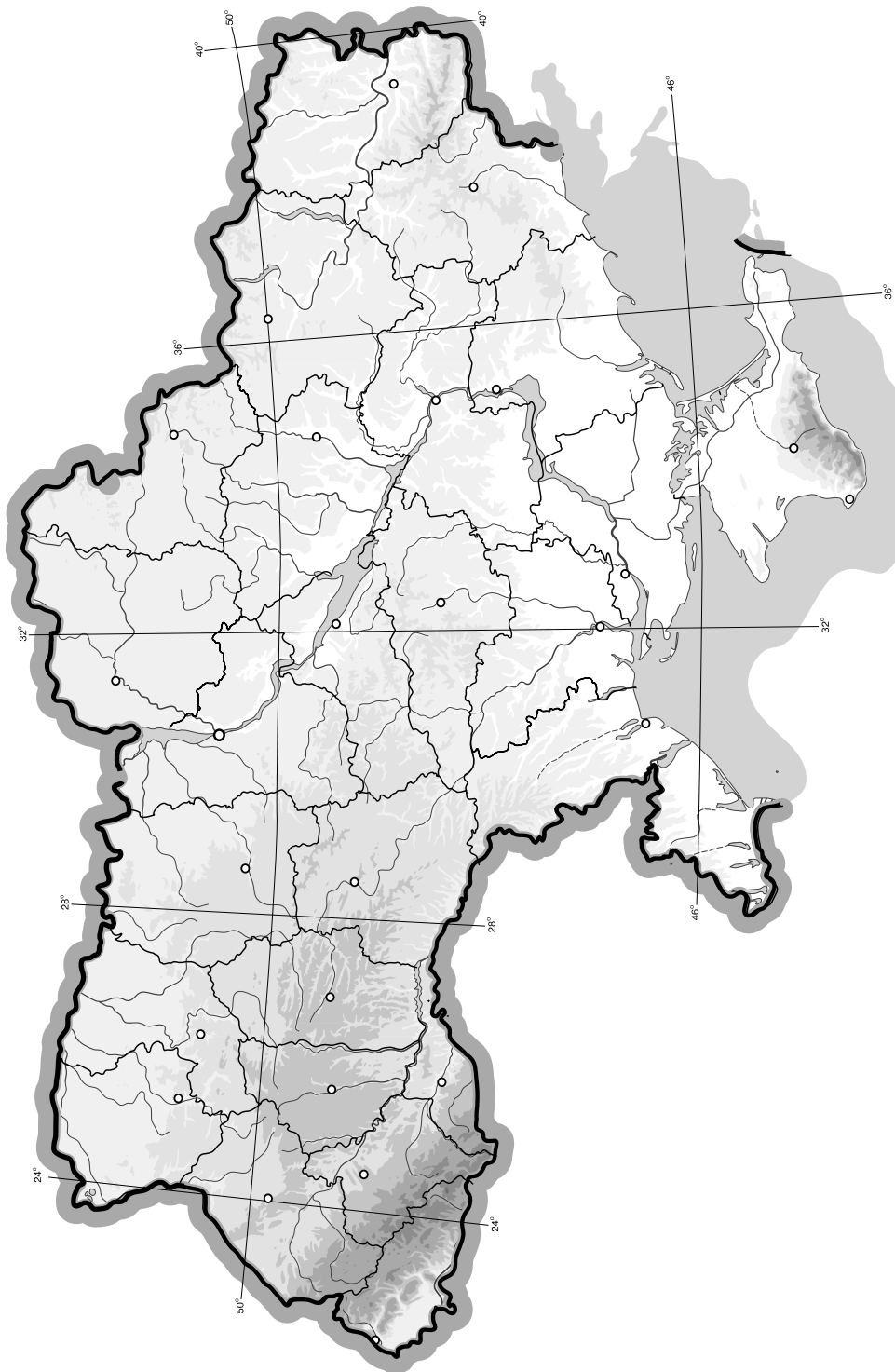
- 29.** Наведіть приклади небезпечних атмосферних явищ і визначте причини їх виникнення.
- 30.** Визначте позитивні та негативні риси економіко-географічного положення України.
- 31*.** Поясніть, як розвиток соціальної інфраструктури впливає на рівень життя населення.

This image shows a single sheet of white paper with horizontal ruling lines. The lines are evenly spaced and run across the width of the page. There are no margins, text, or other markings on the paper.

V. Завдання на контурній карті

Завдання 32 має картографічний характер і передбачає нанесення на карту інформації відповідно до завдання та розробку легенди карти (записи на карті й легенда подаються тим самим кольором ручки, яким виконується все тестове завдання).

- 32.** Позначте на контурній карті основні форми рельєфу на території України (2 гірські системи, 4 височини, 4 низовини).



I. Завдання з вибором однієї правильної відповіді

1. Визначте місцевий час у Чернівцях (48° пн. ш., 26° сх. д.), якщо в Києві (51° пн. ш., 31° сх. д.) 10 год:

А 9 год 40 хв
 Б 9 год 20 хв
 В 10 год 40 хв
 Г 10 год 20 хв

А	Б	В	Г
<input type="checkbox"/>	<input type="checkbox"/>	<input type="checkbox"/>	<input type="checkbox"/>

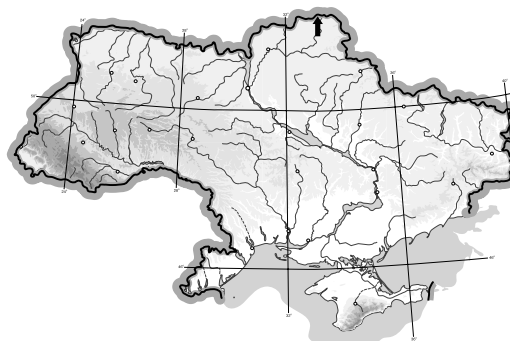
2. Оберіть спосіб картографічного зображення, за допомогою якого позначають явища, що мають безперервне поширення на земній поверхні:

А ареалів
 Б картограм
 В ізоліній
 Г лінійних знаків

А	Б	В	Г
<input type="checkbox"/>	<input type="checkbox"/>	<input type="checkbox"/>	<input type="checkbox"/>

3. Вкажіть назву крайньої точки України, на яку вказує стрілка на карті:

А с. Соломонове
 (околиці м. Чоп)
 Б с. Червона Зірка
 В с. Грем'яч
 Г мис Сарич



А	Б	В	Г
<input type="checkbox"/>	<input type="checkbox"/>	<input type="checkbox"/>	<input type="checkbox"/>

4. Визначте тектонічну структуру, у межах якої розташовані основні родовища залізних та марганцевих руд:

А Донецька складчаста область
 Б Український щит
 В Волино-Подільська плита
 Г Причорноморська западина

А	Б	В	Г
<input type="checkbox"/>	<input type="checkbox"/>	<input type="checkbox"/>	<input type="checkbox"/>

5. Визначте похил ділянки річки завдовжки 50 км, якщо атмосферний тиск у верхній частині ділянки становить 740 мм рт. ст., а в нижній – 750 мм рт. ст.:

А 2 м/км
 Б 20 см/км
 В 2 см/км
 Г 20 м/км

А	Б	В	Г
<input type="checkbox"/>	<input type="checkbox"/>	<input type="checkbox"/>	<input type="checkbox"/>

6. Визначте, яку форму рельєфу позначено на карті:

А Поліська низовина
 Б Придніпровська
 височина
 В Причорноморська
 низовина
 Г Придніпровська
 низовина



А	Б	В	Г
<input type="checkbox"/>	<input type="checkbox"/>	<input type="checkbox"/>	<input type="checkbox"/>

7. Оберіть правильний перелік приток Дніпра:

- А** Прип'ять, Псел, Інгул, Пд. Буг
- Б** Інгулець, Рось, Тетерів, Прип'ять
- В** Сула, Десна, Прут, Тиса
- Г** Інгулець, Тетерів, Сан, Салгир

А	Б	В	Г
<input type="checkbox"/>	<input type="checkbox"/>	<input type="checkbox"/>	<input type="checkbox"/>

8. Визначте, який тип ґрунтів утворився під мішаними лісами на півночі України:

- А** каштанові
- Б** сірі лісові
- В** буроземи
- Г** дерново-підзолисті

А	Б	В	Г
<input type="checkbox"/>	<input type="checkbox"/>	<input type="checkbox"/>	<input type="checkbox"/>

9. Зазначте, яку одиницю природного районування виділяють у межах гірських країн:

- А** фізико-географічні краї
- Б** природні зони
- В** фізико-географічні області
- Г** підзони

А	Б	В	Г
<input type="checkbox"/>	<input type="checkbox"/>	<input type="checkbox"/>	<input type="checkbox"/>

10. Виберіть з перелічених об'єктів природно-заповідного фонду України природний заповідник:

- А** Шацький
- Б** Дунайський
- В** Український степовий
- Г** Карпатський

А	Б	В	Г
<input type="checkbox"/>	<input type="checkbox"/>	<input type="checkbox"/>	<input type="checkbox"/>

11. Вкажіть країну, з якою Україна має найдовший суходільний кордон:

- А** Росія
- Б** Білорусь
- В** Молдова
- Г** Польща

А	Б	В	Г
<input type="checkbox"/>	<input type="checkbox"/>	<input type="checkbox"/>	<input type="checkbox"/>

12. Зазначте, який показник характеризує механічний рух населення:

- А** сальдо міграцій
- Б** густота населення
- В** рівень народжуваності
- Г** чисельність населення

А	Б	В	Г
<input type="checkbox"/>	<input type="checkbox"/>	<input type="checkbox"/>	<input type="checkbox"/>

13. Оберіть правильне визначення поняття «економічна система»:

- А** сукупність галузей матеріального і нематеріального виробництва, що утворюють господарський комплекс
- Б** система товарно-грошових відносин у суспільстві, що ґрунтуються на об'єктивних економічних законах
- В** сукупність підприємств та організацій, що виготовляють певну продукцію і створюють умови для життя людей
- Г** сукупність принципів, правил, норм, що визначають основні економічні відносини в суспільстві

А	Б	В	Г
<input type="checkbox"/>	<input type="checkbox"/>	<input type="checkbox"/>	<input type="checkbox"/>

14. Вкажіть галузь господарства, яка належить до виробничої сфери:

- А** побутове обслуговування
- Б** фінансова сфера
- В** торгівля
- Г** охорона здоров'я

А	Б	В	Г
<input type="checkbox"/>	<input type="checkbox"/>	<input type="checkbox"/>	<input type="checkbox"/>





15. Визначте, який об'єкт електроенергетики зображено на карті пунсоном:

- А Добротвірська ТЕС
- Б Зміївська ТЕС
- В Бурштинська ТЕС
- Г Вуглегірська ТЕС



А	Б	В	Г
<input type="checkbox"/>	<input type="checkbox"/>	<input type="checkbox"/>	<input type="checkbox"/>

16. Визначте, який центр чорної металургії зображено на карті пунсоном:

- А Запоріжжя
- Б Кривий Ріг
- В Дніпропетровськ
- Г Маріуполь



А	Б	В	Г
<input type="checkbox"/>	<input type="checkbox"/>	<input type="checkbox"/>	<input type="checkbox"/>

17. Виберіть галузь машинобудування, що тяжіє до промислових центрів, у яких є науково-дослідні установи, кваліфіковані трудові ресурси та інфраструктура:

- А автомобілебудування
- Б точне
- В енергетичне
- Г сільськогосподарське

А	Б	В	Г
<input type="checkbox"/>	<input type="checkbox"/>	<input type="checkbox"/>	<input type="checkbox"/>

18. Вкажіть спеціалізацію підприємств, які розміщені у Великому Бичкові, Перечині, Славуті, Коростені:

- А целюлозно-паперова
- Б деревообробка
- В лісохімія
- Г меблева

А	Б	В	Г
<input type="checkbox"/>	<input type="checkbox"/>	<input type="checkbox"/>	<input type="checkbox"/>

19. Зазначте, на якій території переважно вирощують соняшник:

- А Передкарпаття
- Б Полісся
- В Степ
- Г Лісостеп

А	Б	В	Г
<input type="checkbox"/>	<input type="checkbox"/>	<input type="checkbox"/>	<input type="checkbox"/>

20. Виберіть економічний район, для якого характерним є переважання машинобудування та металообробки, харчової і легкої промисловості, курортно-туристичного господарства і потужного сільського господарства:

- А Карпатський
- Б Придніпровський
- В Причорноморський
- Г Північно-Західний

А	Б	В	Г
<input type="checkbox"/>	<input type="checkbox"/>	<input type="checkbox"/>	<input type="checkbox"/>

II. Завдання на визначення відповідності

У завданнях 21–25 до кожного із завдань, позначених цифрою, доберіть правильну відповідь, позначену буквою. Потім відповідність цифр і букв перенесіть у бланк відповідей.

21. Вкажіть відповідність між тектонічними структурами та формами рельєфу, які з ними пов'язані:

- 1 Волино-Подільська плита
 - 2 Український щит
 - 3 Донецька складчаста споруда
 - 4 Закарпатська западина
- А** Приазовська височина
Б Закарпатська низовина
В Причорноморська низовина
Г Волинська височина
Д Донецький кряж

	А	Б	В	Г	Д
1	<input type="checkbox"/>	<input type="checkbox"/>	<input type="checkbox"/>	<input type="checkbox"/>	<input type="checkbox"/>
2	<input type="checkbox"/>	<input type="checkbox"/>	<input type="checkbox"/>	<input type="checkbox"/>	<input type="checkbox"/>
3	<input type="checkbox"/>	<input type="checkbox"/>	<input type="checkbox"/>	<input type="checkbox"/>	<input type="checkbox"/>
4	<input type="checkbox"/>	<input type="checkbox"/>	<input type="checkbox"/>	<input type="checkbox"/>	<input type="checkbox"/>

22. Визначте відповідність між областями України та середньорічною кількістю опадів на їхній території:

- 1 Закарпатська
 - 2 Рівненська
 - 3 Черкаська
 - 4 Запорізька
- А** 601–700 мм
Б 301–400 мм
В 501–600 мм
Г 701–800 мм
Д 401–500 мм

	А	Б	В	Г	Д
1	<input type="checkbox"/>	<input type="checkbox"/>	<input type="checkbox"/>	<input type="checkbox"/>	<input type="checkbox"/>
2	<input type="checkbox"/>	<input type="checkbox"/>	<input type="checkbox"/>	<input type="checkbox"/>	<input type="checkbox"/>
3	<input type="checkbox"/>	<input type="checkbox"/>	<input type="checkbox"/>	<input type="checkbox"/>	<input type="checkbox"/>
4	<input type="checkbox"/>	<input type="checkbox"/>	<input type="checkbox"/>	<input type="checkbox"/>	<input type="checkbox"/>

23. Визначте відповідність між типами ґрунтів та регіонами їх поширення:

- 1 дерново-підзолисті
 - 2 опідзолені чорноземи
 - 3 звичайні чорноземи
 - 4 буроземні гірсько-лучні
- А** Карпати
Б Кримські гори
В Полісся
Г Лісостеп
Д Степ

	А	Б	В	Г	Д
1	<input type="checkbox"/>	<input type="checkbox"/>	<input type="checkbox"/>	<input type="checkbox"/>	<input type="checkbox"/>
2	<input type="checkbox"/>	<input type="checkbox"/>	<input type="checkbox"/>	<input type="checkbox"/>	<input type="checkbox"/>
3	<input type="checkbox"/>	<input type="checkbox"/>	<input type="checkbox"/>	<input type="checkbox"/>	<input type="checkbox"/>
4	<input type="checkbox"/>	<input type="checkbox"/>	<input type="checkbox"/>	<input type="checkbox"/>	<input type="checkbox"/>

24. Вкажіть відповідність між типами населених пунктів і наведеними містами:

- 1 багатофункціональне місто
 - 2 залізничний вузол
 - 3 промисловий центр
 - 4 культурно-оздоровчий центр
- А** Ізмаїл
Б Кривий Ріг
В Ковель
Г Євпаторія
Д Львів

	А	Б	В	Г	Д
1	<input type="checkbox"/>	<input type="checkbox"/>	<input type="checkbox"/>	<input type="checkbox"/>	<input type="checkbox"/>
2	<input type="checkbox"/>	<input type="checkbox"/>	<input type="checkbox"/>	<input type="checkbox"/>	<input type="checkbox"/>
3	<input type="checkbox"/>	<input type="checkbox"/>	<input type="checkbox"/>	<input type="checkbox"/>	<input type="checkbox"/>
4	<input type="checkbox"/>	<input type="checkbox"/>	<input type="checkbox"/>	<input type="checkbox"/>	<input type="checkbox"/>

25. Визначте відповідність між транспортними засобами та центрами їх виробництва:

- 1 залізничні цистерни
 - 2 вантажні автомобілі
 - 3 морські судна
 - 4 літаки
- А** Кременчук
Б Херсон
В Київ
Г Маріуполь
Д Львів

	А	Б	В	Г	Д
1	<input type="checkbox"/>	<input type="checkbox"/>	<input type="checkbox"/>	<input type="checkbox"/>	<input type="checkbox"/>
2	<input type="checkbox"/>	<input type="checkbox"/>	<input type="checkbox"/>	<input type="checkbox"/>	<input type="checkbox"/>
3	<input type="checkbox"/>	<input type="checkbox"/>	<input type="checkbox"/>	<input type="checkbox"/>	<input type="checkbox"/>
4	<input type="checkbox"/>	<input type="checkbox"/>	<input type="checkbox"/>	<input type="checkbox"/>	<input type="checkbox"/>



ДЕРЖАВНА ПІДСУМКОВА АТЕСТАЦІЯ

ТЕОГРАФИЯ

- | | | | |
|---|-------------------|---|----------------|
| 1 | АР Крим | 5 | Луганська обл. |
| 2 | Харківська обл. | 6 | Волинська обл. |
| 3 | Чернігівська обл. | 7 | Донецька обл. |
| 4 | Закарпатська обл. | | |

- | | | | |
|---|----------|---|--------------------|
| 1 | терикони | 5 | надзаплавні тераси |
| 2 | канали | 6 | дамби |
| 3 | ками | 7 | карстові печери |
| 4 | яри | | |

- | | |
|---------------|-----------------|
| 1 Канів | 5 Южноукраїнськ |
| 2 Кузнецовськ | 6 Бурштин |
| 3 Ладижин | 7 Кременчук |
| 4 Енергодар | |



Завдання 29–31 передбачають розгорнуту відповідь на поставлені запитання з відповідним записом у бланку відповідей.

29. Як впливає рельєф на характер течії річок? Наведіть приклади.
30. Що таке чорна металургія? Назвіть райони та головні центри чорної металургії України. Зазначте принципи їх розміщення.
- 31*. Поясніть, які ризики та можливості відкриває процес глобалізації для економіки України.

[illegible]

V. Завдання на контурній карті

Завдання 32 має картографічний характер і передбачає нанесення на карту інформації відповідно до завдання та розробку легенди карти (записи на карті й легенда подаються тим самим кольором ручки, яким виконується все тестове завдання).

32. Позначте на контурній карті України п'ять найбільших річок і п'ять озер.

